

ESCOLA CLASSE 03 DE BRAZLÂNDIA - DF

PROFESSOR: PEDRO PAULO

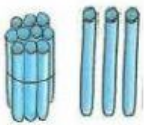
TURMA: 2º A

DATA: 03/05/2021

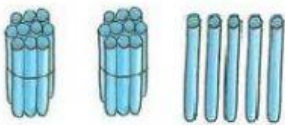
ALUNO: _____

ATIVIDADES

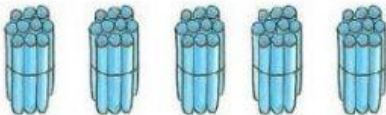
1) VAMOS COMPOR OS NÚMEROS E ESCREVER POR EXTENSO, SIGA O EXEMPLO



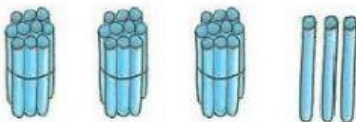
- 13 - TREZE








_____ - _____



_____ - _____



_____ - _____

2) ESCREVA O NOME DOS DESENHOS E SEPRE EM SÍLABAS:





























3) VAMOS DECOMPOR E ESCREVER O NOME DOS NÚMEROS ABAIXO, COMO NO EXEMPLO:

23

VINTE E TRÊS

D	U
2	3

14

D	U

36

D	U

31

D	U

10

D	U

25

D	U

43

D	U

8

D	U

16



D	U




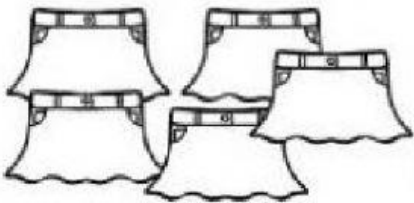
NESSE TEMPO DE PANDEMIA PRECISAMOS SER SOLIDÁRIOS COM OS QUE PRECISAM. EM MUITOS ESTABELECIMENTOS COMERCIAIS ELES ESTÃO ARRECADANDO ROUPAS E ALIMENTOS.

BIA E MIGUEL ARRECADARAM ALGUMAS PEÇAS DE ROUPAS PARA DOAR PARA OS MORADORES DE RUA.

JUNTE AS QUANTIDADES E DESCUBRA QUANTAS PEÇAS AS CRIANÇAS ARRECADARAM.


		
___ BLUSAS +	___ BLUSAS =	___ BLUSAS

		
___ CALÇAS +	___ CALÇAS =	___ CALÇAS

		
___ SAIAS +	___ SAIAS =	___ SAIAS

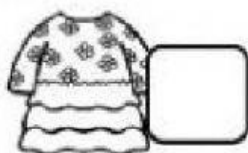
MATEMÁTICA

OBSERVE O GRÁFICO DE ROUPAS ARRECADADAS PELAS CRIANÇAS E RESPONDA AS QUESTÕES A SEGUIR.



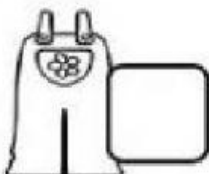
- QUANTOS?














QUANTOS  A MAIS

QUE



?

QUANTAS  A MENOS

QUE



?



1) MOSTRE O QUANTO VOCÊ ESTÁ APRENDENDO!!! FAÇA AS CONTINHAS COMO NO EXEMPLO.

LEMBRE-SE, DEZENA EMBAIXO DE DEZENA E UNIDADE EMBAIXO DE UNIDADE.

a) $21 + 13 =$	
D	U
2	1
+ 1	3
3	4

b) $33 + 20 =$	
D	U

c) $40 + 7 =$	
D	U

d) $59 - 21 =$	
D	U

e) $35 + 33 =$	
D	U

f) $25 + 4 =$	
D	U

1) AGORA QUE VOCÊ JÁ FEZ TODAS AS CONTINHAS , ESCRVA POR EXTENSO O RESULTADO DE CADA UMA NAS LINHAS ABAIXO:

a) _____

b) _____

c) _____

d) _____

e) _____

f) _____

