

SOAL EVALUASI

1. Lingkungan yang tercemar, kotor dan penuh sampah merupakan lingkungan yang ...

- a. bersih
- b. terawat
- c. kotor

2.



gambar A



gambar B



gambar C

Gambar yang menunjukkan lingkungan kotor yaitu...

- a. gambar C
- b. gambar A
- c. gambar B

3. Rumah Toni terlihat tidak sehat. Di halaman rumahnya terdapat banyak sampah berserakan. Hal ini mengakibatkan banyak lalat. Suatu hari Toni sakit perut karena makan makanan yang sudah dihirup lalat. Hal ini terjadi karena lingkungan rumah Toni...

- a. terawat
- b. indah
- c. kotor

4.



gambar A



gambar B



gambar C

Gambar yang menunjukkan kegiatan membersihkan rumah adalah...


- a. gambar A
- b. gambar B
- c. gambar C

5. Gambar alat kebersihan di bawah ini yang merupakan bangun datar yaitu...

a.



b.



c.



6.



Ruas garis bangun datar di samping ada...


- a. empat
- b. dua
- c. tiga

7. Ruas garis bangun datar di bawah ini yang benar yaitu...

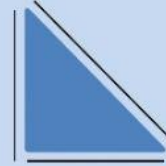
a.



b.



c.



8. Perhatikan tanda dinamika di bawah ini!



tanda dinamika di samping menandakan syair dinyanyikan dengan tekanan...

- a. lembut
- b. keras
- c. sedang

9. Perhatikan syair lagu “Membuang Sampah” di bawah ini!

Jangan membuang sampah dimana-mana

Syair lagu di atas dinyanyikan dengan tekanan...

- a. sedang
- b. keras
- c. lembut

10. Syair lagu “Membuang Sampah” di bawah ini yang dinyanyikan dengan tekanan keras yaitu...

- a. *Sapu dan bersihkan buang di tempatnya*
- b. *Jangan membuang sampah dimana-mana*
- c. *Sampah di rumahmu, sampah di halaman*