



Lembar Kerja Peserta Didik (LKPD)
PPG PSD UNY 2021

LKPD (LEMBAR KERJA PESERTA DIDIK)

Tema 7 Benda, Hewan dan Tanaman di Sekitarku

KELAS 1



Subtema 1
Pembelajaran 5

Muatan Pelajaran:
**Bahasa Indonesia &
Matematika**

Nama :

Kelas :

No Absen :

Kompetensi dasar:

Bahasa Indonesia

3.6 Menguraikan kosakata tentang berbagai jenis benda di lingkungan sekitar melalui teks pendek (berupa gambar, slogan sederhana, tulisan, dan/atau syair lagu) dan/atau eksplorasi lingkungan

4.6 Menggunakan kosakata bahasa Indonesia dengan ejaan yang tepat dan dibantu dengan bahasa daerah mengenai berbagai jenis benda di lingkungan sekitar dalam teks tulis sederhana

Matematika


3.2 Menjelaskan bilangan sampai dua angka dan nilai tempat penyusun lambang bilangan menggunakan kumpulan benda konkret serta cara membacanya

3.2 Menjelaskan bilangan sampai dua angka dan nilai tempat penyusun lambang bilangan menggunakan kumpulan benda konkret serta cara membacanya



Tujuan Pembelajaran

- a. Setelah membaca teks yang disajikan dalam slide power point siswa dapat menunjukkan kosakata tentang perkembangbiakan benda hidup dengan tepat.
- b. Setelah mengamati teks yang disajikan dalam slide power point, siswa dapat menggunakan kosakata tentang perkembangbiakan benda hidup secara tertulis dengan tepat.
- c. Dengan menyimak video pembelajaran, siswa dapat menentukan nilai tempat (satuan dan puluhan) bilangan terdiri atas dua angka dengan bantuan benda konkret dengan benar.
- d. Setelah mengamati video tentang nilai tempat, siswa dapat menuliskan bilangan terdiri atas dua angka sesuai nilai tempat dengan benar.



Petunjuk belajar

- 1. Awali dengan berdoa**
- 2. Tulislah identitas di halaman sampul dengan lengkap**
- 3. Siapkan perlengkapan yang diperlukan**
- 4. Bacalah petunjuk setiap tugas dengan cermat**
- 5. Kerjakan tugas dengan teliti**
- 6. Sebelum dikirimkan, koreksi kembali jika sudah selesai**
- 7. Akhiri dengan berdoa**



Simak video berikut ini!



A. Tuliskan 3 contoh benda hidup berdasarkan video yang kalian lihat tadi

- 1.
- 2.
- 3.

Ayo membaca!

Benda hidup dapat berkembang biak.

Benda tak hidup tidak dapat berkembang biak.

Berkembang biak untuk mendapatkan keturunan.

Berkembang biak juga untuk memperbanyak jumlahnya.

Tujuan berkembang biak agar benda hidup terjaga kelestariannya.

B. Jodohkan arti kata berikut dengan menarik garis!

tumbuh

bertambah banyak

berkembang biak

tidak punah

lestari

bertambah besar

C. Buatlah kalimat untuk menceritakan gambar berikut ini




A large, empty light blue rectangular box with a small tail pointing towards the bottom left, intended for writing a sentence about the image.

MATEMATIKA

Simak video berikut ini!



A. Setelah menyimak video, identifikasilah soal di bawah ini dengan benar!



Banyaknya buah strowberry ada

Banyaknya buah jeruk ada

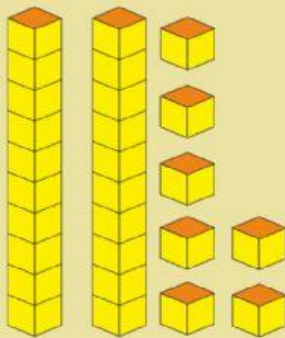
Banyaknya semua buah ada

$$23 = \quad + \quad$$

23 = \quad puluhan + \quad satuan

2 menempati tempat

3 menempati tempat



Banyaknya kubus satuan adalah

27 = \quad puluhan + \quad satuan

2 menempati tempat

3 menempati tempat

