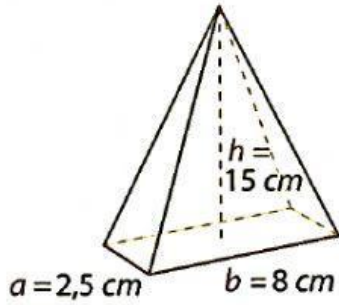


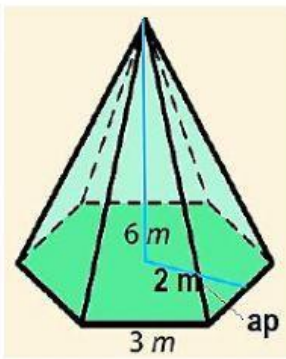
FICHA INTERACTIVA: noveno

1. Calcule el área del siguiente cuerpo:



$V = \quad \text{cm}^3$

2. Calcule el volumen y luego marque la respuesta correcta del siguiente cuerpo:

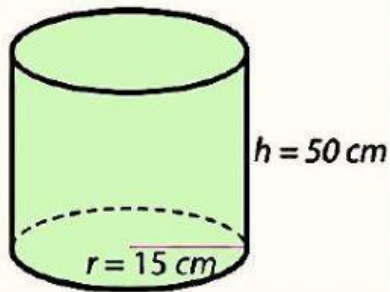


$V = 36 \text{ m}^3$

$V = 50 \text{ m}^3$

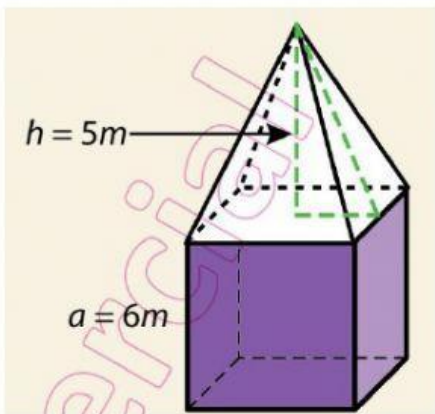
$V = 72 \text{ m}^3$

3. Calcule el volumen y luego seleccione la respuesta correcta:



$V = \quad \text{cm}^3$

4. Calcule el volumen total de:



$V = \quad \text{cm}^3$