

EVALUACIÓN DE CIENCIA , TECNOLOGÍA Y AMBIENTE I BIMESTRE

9.E.R.
Claret
Arequipa

ESTUDIANTE:

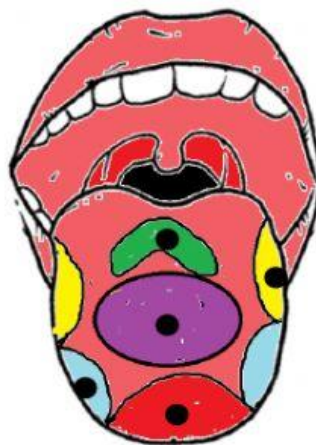
GRADO: PRIMERO SECCIÓN: AMARILLO

PROF: Eugenia Mendoza Flores Fecha: 07/05/2021

1. Aplicando la Observación en las siguientes situaciones, indica tus conclusiones seleccionando con un ☒ todos los sentidos que estarán usando en cada imagen recuerda que puede ser más de uno.



2. Observa las imágenes, identifica el sabor y luego únelas con flechas con las zonas de los sabores que le corresponden. Debes unir los puntos rojos con los puntitos negros según corresponda



3. Escucha y selecciona solo las acciones que señalen el cuidado de los cinco sentidos.

Estar cerca de olores fuertes y tóxicos.

☐

Limpiar la nariz para respirar mejor.

☐

Cepillar los dientes tres veces al día.

☐

Bañarnos a diario para eliminar el sudor.

☐

Introducir llaves para limpiar el oído.

☐

Ver la televisión de cerca.

☐

Protegerse del sol con sombrero y bloqueador.

☐

Frotarse los ojos con las manos sucias.

☐

4. Selecciona las características de los tipos ecosistemas al que pertenecen según su tamaño y naturaleza.



Grande

Pequeño

Natural

Artificial



Grande

Pequeño

Natural

Artificial



Grande

Pequeño

Natural

Artificial

5. Escucha los rasgos físicos de cada niño y arrastra el nombre que le corresponde a cada uno.



Ismael



Nino



Manuel

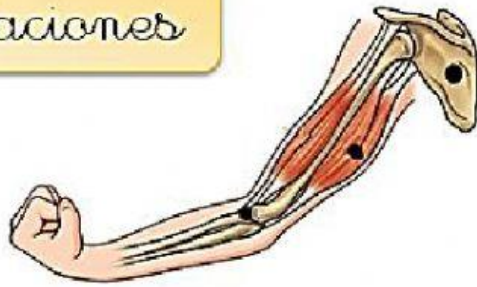


Pepe



6. Observa la imagen y une con líneas los órganos que componen el aparato locomotor según corresponda.

Articulaciones



Hueso

Músculos

7. Carlitos y julio se fracturaron algunos huesos. Indica que huesos se fracturaron. Marcando con un check en los recuadros con la respuesta.


☐

Fémur

☐

Tibia

☐

Húmero

☐

Peroné


☐

Húmero

☐

Radio

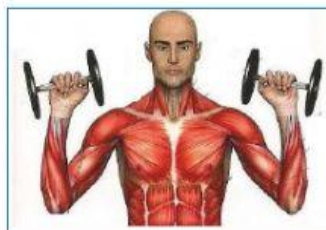
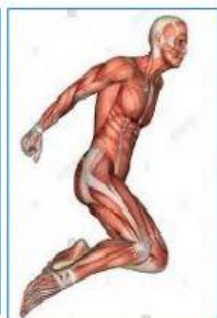
☐

Cúbito

☐

Tibia

8. Juan y pedro están realizando acciones que músculos está haciendo trabajar. Marca con un check en los recuadros los músculos que están usando por cada acción.


☐

Músculos de la cabeza

☐

Pectorales

☐

Músculos de los brazos

☐

Músculos de la cabeza


☐

Músculos de las piernas

☐

Músculos de los brazos

9. Identifica una de las articulaciones que están usando al realizar estas acciones. Arrastra los carteles según corresponda.



Rodilla

Muñeca

Cuello

10. Observa las imágenes y selecciona con SI las acciones que se realiza para cuidar nuestro sistema locomotor y NO las acciones que no permiten cuidar el sistema locomotor.



