

Números romanos y egipcios.

Escribe los siguientes números decimales a números romanos:

1. 3


2. 10


3. 100


4. 9

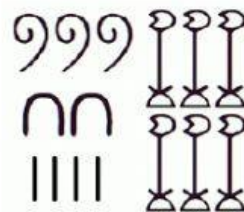
5. 40

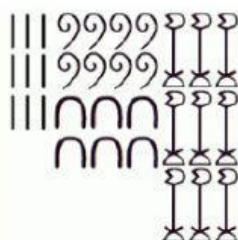
Escribe los siguientes números egipcios a números decimales.

 =

 =

 =

 =

 =