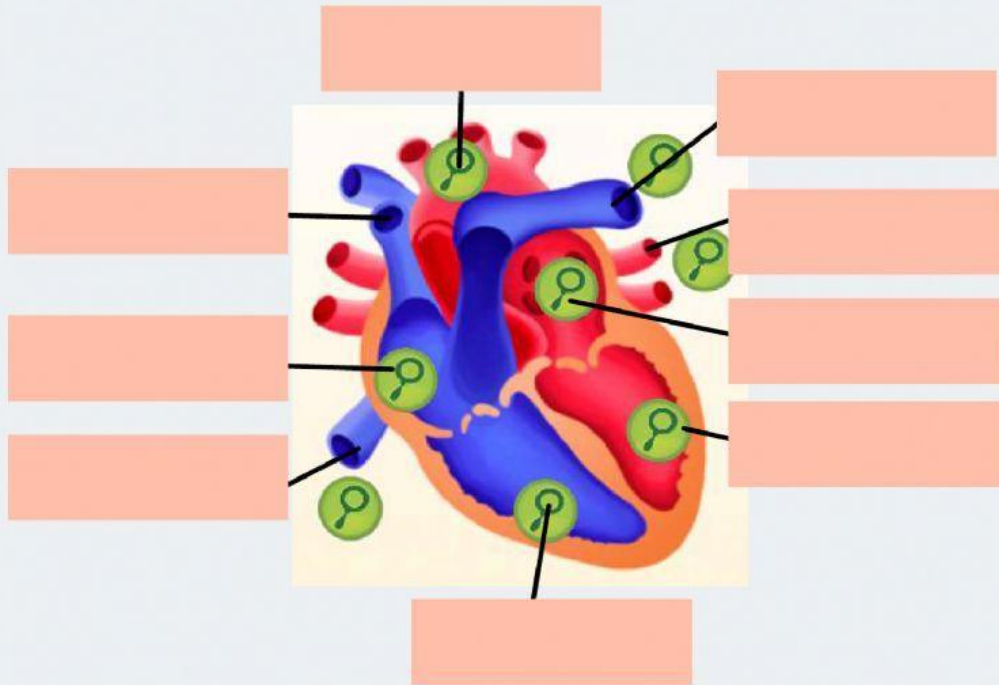


EL SISTEMA CIRCULATORIO

♥ INDICA SUS NOMBRES



AURÍCULA DERECHA

ARTERIA AORTA

VENA PULMONAR

VENA CAVA SUPERIOR

AURÍCULA IZQUIERDA

VENA CAVA INFERIOR

VENTRÍCULO IZQUIERDO

ARTERIA PULMONAR

VENTRÍCULO DERECHO

♥ CONTESTA A LAS PREGUNTAS

1

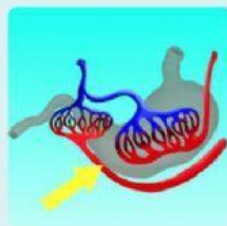
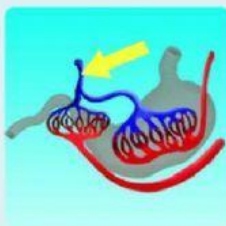
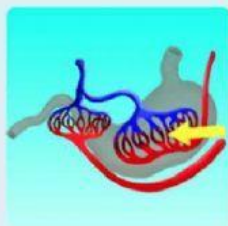
Señala las venas

Three diagrams of the human heart, each showing the venous system. The first diagram shows the superior vena cava entering the right atrium. The second diagram shows the inferior vena cava entering the right atrium. The third diagram shows the pulmonary veins entering the left atrium. Each diagram has a yellow arrow pointing to a specific vein.

2



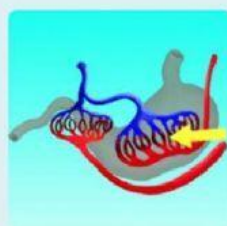
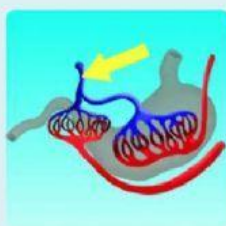
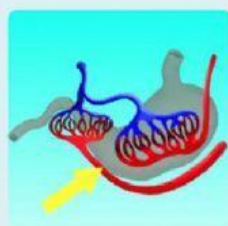
Señala las arterias



3



Señala los capilares



4



¿Quién se encarga de llevar el oxígeno?

Plaquetas

Glóbulos blancos

Glóbulos rojos

5



¿Quién se encarga de reparar y curar las heridas?

Glóbulos rojos

Glóbulos blancos

Plaquetas

6



¿Quién lucha contra las sustancias extrañas?

Plaquetas

Glóbulos blancos

Glóbulos rojos

7



¿Dónde se encuentra el corazón?

Centro derecha

Centro

Centro izquierda

8



¿Cómo se llama el músculo del corazón?

Gemelo

Miocardio

Bíceps

9



¿Cuál es la arteria principal?

Occipital

Cava

Aorta

10



¿Cuál es la vena principal?

Cava

Occipital

Aorta