



# FRACCIONES DECIMALES




1 unidad



La unidad tiene **10 partes** iguales.  
Cada parte es una **décima**.

$$1 \text{ décima} = \frac{1}{10} = 0,1$$

1 unidad = 10 decimas.

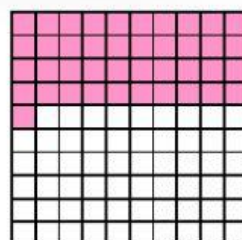
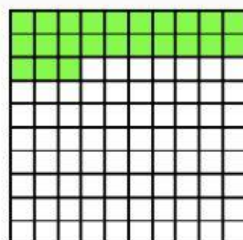
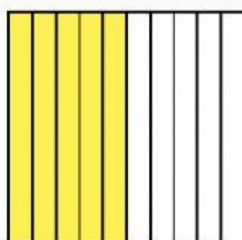

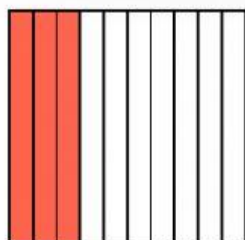


La unidad tiene **100 partes** iguales.  
Cada parte es una **centésima**.

$$1 \text{ centésima} = \frac{1}{100} = 0,01$$

1 unidad = 100 centésimas.

Relaciona estas imágenes con la fracción y el número decimal que representan.



$$\frac{7}{100}$$

$$\frac{3}{10}$$

$$\frac{41}{100}$$

$$\frac{23}{100}$$

$$\frac{5}{10}$$

0,3

0,07

0,23

0,41

0,5

