


# QUANTI IN TUTTO?



COMPLETA.




Quante mele blu? ☐

Quante mele celesti? ☐

Quante mele IN TUTTO? ☐

$$4 + 2 = \square$$



Quante margherite? ☐

Quanti tulipani? ☐

Quante viole? ☐

Quanti fiori COMPLESSIVAMENTE? ☐

$$\dots\dots\dots = \square$$

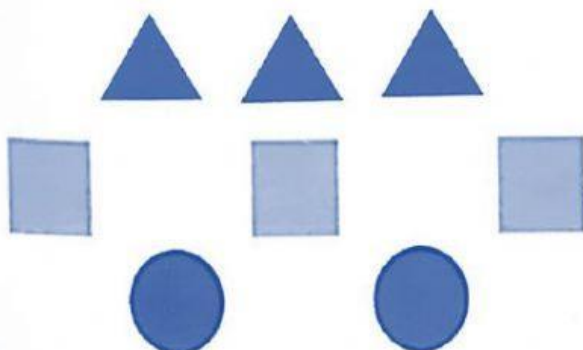


Quanti cani? ☐

Quanti gatti? ☐

Quanti animali IN TOTALE? ☐

$$\dots\dots\dots = \square$$



Quanti blocchi triangolari? ☐

Quanti blocchi quadrati? ☐

Quanti blocchi rotondi? ☐

Quanti blocchi IN TUTTO? ☐

$$\dots\dots\dots = \square$$