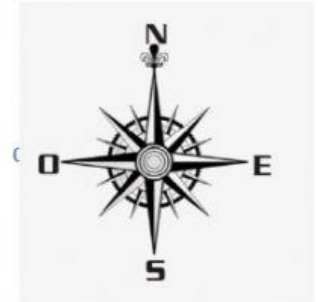
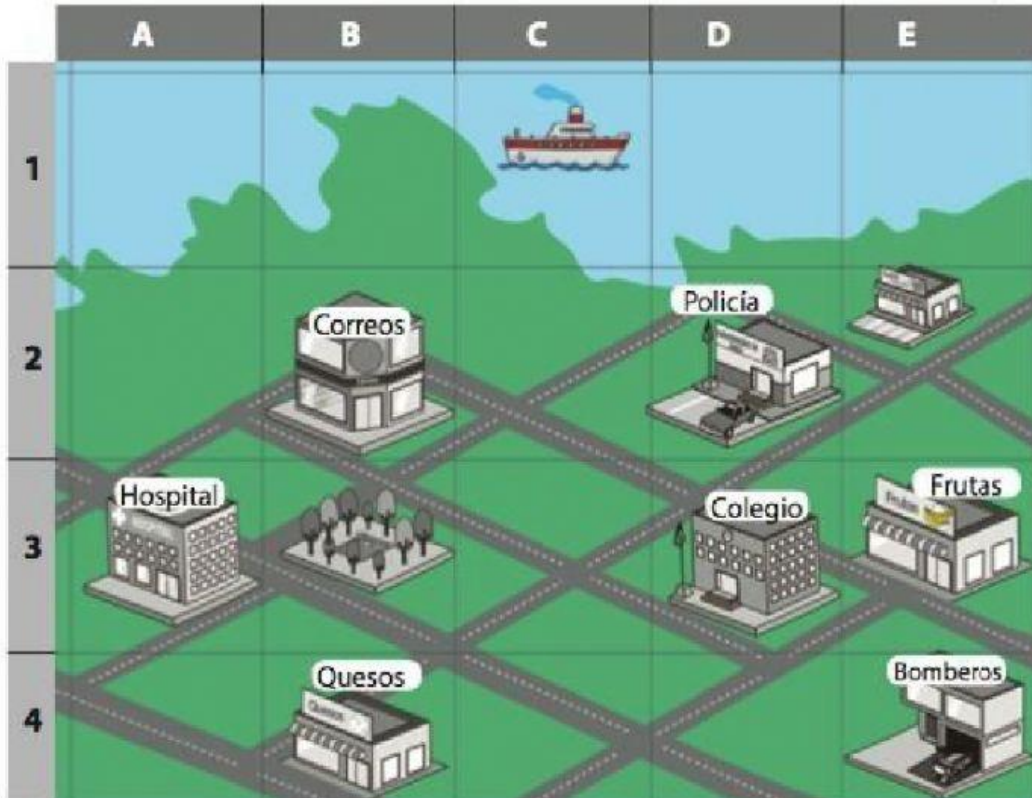


Guía de ejercitación de Historia

Observe el plano con cuadrícula y responda:



1. **Ubicación en la cuadrícula según coordenadas:**
Arrastra la coordenada en que se ubica cada lugar.

D,2

A,3

D,3

C,1

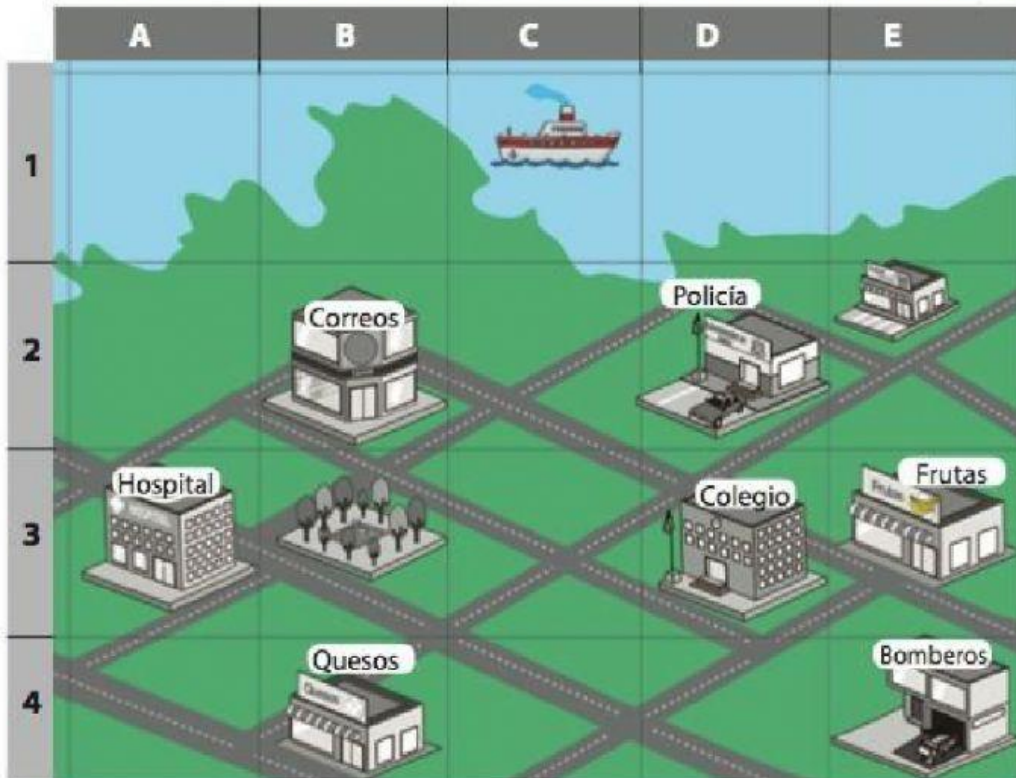
POLICÍA

HOSPITAL

COLEGIO

BARCO

Observe el plano con cuadrícula y selecciona la respuesta correcta.



II. Cuadrículas y puntos cardinales:

1. ¿Qué lugar se encuentra al **oeste** de los bomberos?

2. ¿Qué lugar se encuentra al **este** del hospital?

3. ¿Qué lugar se encuentra al **sur** de la frutería?

4. Si estoy en el correo y necesito ir a los bomberos. ¿qué ruta debo seguir?

III) Lee bien cada pregunta y señala la respuesta correcta.

1. Los planos son:

2. Los puntos cardinales son:

3. En nuestro país el sol se esconde por el:

IV) Responde verdadero o falso.

1. Las cuadrículas sirven para localizar un punto exacto en un determinado lugar.

2. Si a mí derecha tengo el este, adelante mío tengo el sur.

3. Los planos representan lugares como casas, plazas, ciudades.

4. Una cuadrícula está formada solo por líneas horizontales.

