

Projeto Aprender Mais – Profa Nathália Alcântara

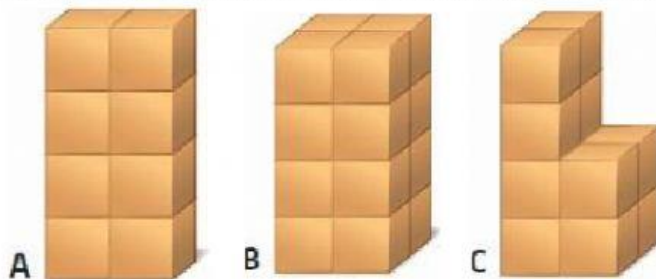
EM DOIS DE DEZEMBRO

Noções de Volume

Nome _____

Data: 29/04/2021

1. Considera como unidade de volume o .



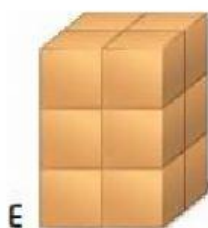

1.1. Quantas unidades de volume têm cada uma das construções?

Modelo	Cubos
A	
B	
C	

2. Observa as construções que se seguem.

2.1. Qual a construção com menor volume? _____

2.2. Determina o volume de cada construção. A unidade de volume é .



$V_D =$ _____ 

$V_E =$ _____ 

$V_F =$ _____ 