

LA TIERRA, UN PLANETA DEL SISTEMA SOLAR

Lee con atención y marca sólo una opción excepto cuando te pidan varias.

1.- ¿Qué astro está en el centro del sistema solar?

☐

Júpiter

☐

El Sol

☐

Un cometa

☐

El cinturón de asteroides

2.- ¿Cómo se llama la galaxia en la que se encuentra nuestro sistema solar?

☐

Galaxia Andrómeda

☐

Enana del Can Mayor

☐

Vía Láctea

☐

Galaxia Palo de Hockey

3.- Marca la opción en la que los siguientes elementos están ordenados de mayor a menor:

☐

Universo- Galaxia-Sol- Tierra -Luna

☐

Universo-Tierra-Sol-Luna- Galaxia

☐

Luna-Tierra-Sol-Galaxia-Universo

☐

Sol-Universo-Tierra-Galaxia-Luna

4.-¿Cómo se llama el planeta más oscuro y frío de nuestro sistema solar?

☐

Saturno

☐

Urano

☐

Venus

☐

Neptuno

5.- Escribe V si es verdadero o F si es falso:

☐

Mercurio es el planeta más cálido porque tiene una densa atmósfera que retiene el calor.

☐

La Tierra es el único planeta que reúne las condiciones necesarias para la vida.

☐

Saturno es el planeta más grande y con casi 70 satélites.

☐

La Luna es el satélite natural de la Tierra.

☐

La Luna tiene luz propia.

6.- Lee con atención y marca la opción correcta:

☐ El movimiento de rotación es el que realiza la Tierra alrededor del Sol dando lugar a las estaciones del año y el movimiento de traslación es el que realiza la Tierra sobre sí misma dando lugar al día y la noche.

☐ El movimiento de traslación es el que realiza la Tierra alrededor del Sol dando lugar a las estaciones del año y el movimiento de rotación es el que realiza la Tierra sobre sí misma dando lugar al día y la noche.

7.- Escribe las estaciones del año:



21 ó 22
de marzo



21 ó 22
de junio



21 ó 22
de septiembre



21 ó 22
de diciembre

8.- ¿Por qué siempre vemos la misma cara de la luna?

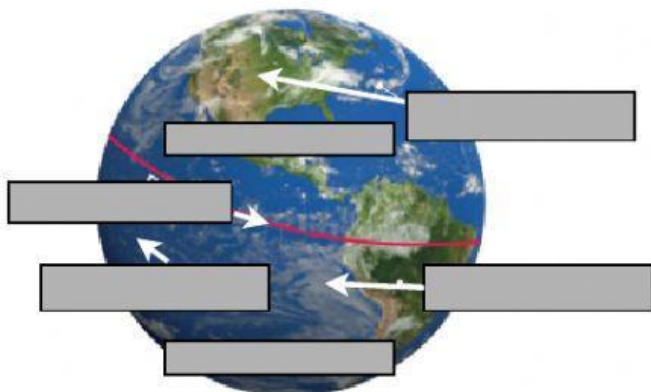
☐ Porque la Luna es plana.

☐ No es cierto, no siempre vemos la misma cara de la Luna.

☐ Porque los movimientos de rotación y traslación que hace la luna duran lo mismo, 28 días.

☐ Porque sólo tiene una cara.

9.- Arrastra al sitio correspondiente:



GEOSFERA

ECUADOR




ATMÓSFERA

HEMISFERIO NORTE

HIDROSFERA

HEMISFERIO SUR

10.- Arrastra al lugar que le corresponde:



SATURNO VENUS JÚPITER MARTE

NEPTUNO TIERRA URANO MERCURIO

C. MENGUANTE C. CRECIENTE L. LLENA L. NUEVA