




Ecuaciones

1. Relaciona cada ecuación con su respuesta correcta.

$$8x + 10 = 5x + 40$$
 

$$9x + 15 = 4x + 60$$
 

$$6x - 20 = 4x + 4$$
 

$$8x - 16 = 2x + 20$$
 



6



9



12



10

