

Atividade de ciências

Nome: _____

Turma: 9ºano

Professor: José oreste

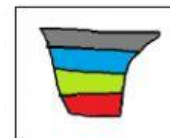
Data: 03/04 á 07/04

1- Identifique as misturas homogêneas

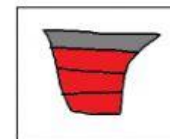


2- Identifique a imagem das misturas heterogêneas a sua fase correta

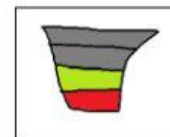
Bifásica



Trifásica



Polifásica



3- Quando temos uma matéria formada apenas por um tipo de átomo, como por exemplo , uma barra de alumínio , podemos a chamar de :

- a) Mistura homogênea
- b) Substância
- c) Átomo
- d) Mistura heterogênea