


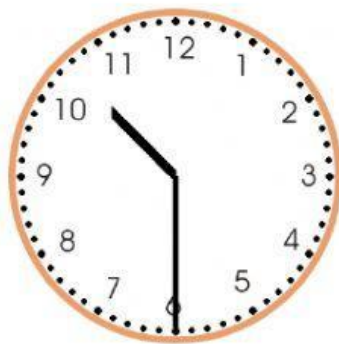
## 1. Quelle heure est-il ? Choisis la bonne heure !



Il est sept heures et demie

Il est six heures et quart

Il est trois heures et demie



Il est six heures dix

Il est onze heures et demie

Il est dix heures et demie



Il est cinq heures vingt

Il est sept heures vingt-cinq

Il est huit heures vingt



Il est trois heures moins dix

Il est dix heures et quart

Il est trois heures dix



Il est six heures

Il est douze heures dix

Il est midi



Il est cinq heures moins cinq

Il est cinq heures cinq

Il est dix heures vingt-cinq

## 2. Quelle heure est-il ?



\_\_\_\_\_



\_\_\_\_\_



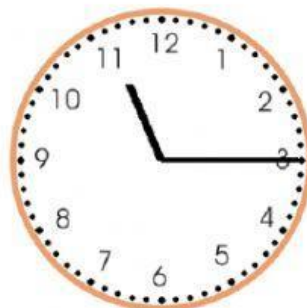
\_\_\_\_\_



\_\_\_\_\_



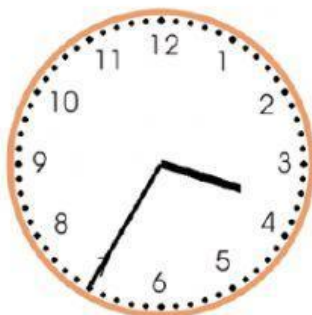
\_\_\_\_\_



\_\_\_\_\_



\_\_\_\_\_



\_\_\_\_\_



\_\_\_\_\_