



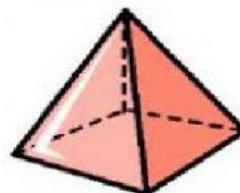
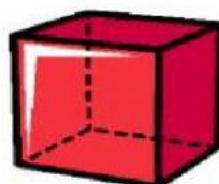
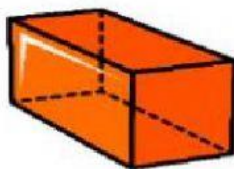
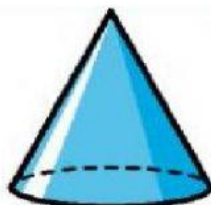
# *Gimnasio Reino de Castilla*

*Antes Gimnasio Castillo Campesino 1988*

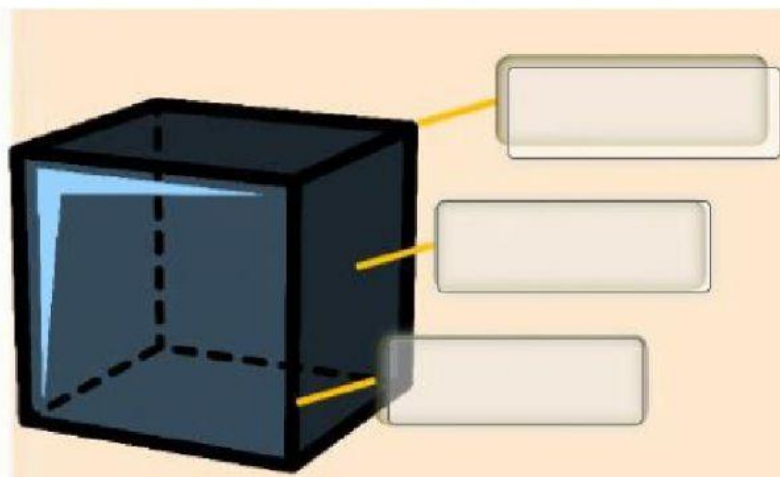
## QUIZ GEOMETRÍA SEGUNDO

Nombre: \_\_\_\_\_

1. Escribo el nombre de los siguientes sólidos geométricos



2. Escribo las partes de los sólidos geométricos

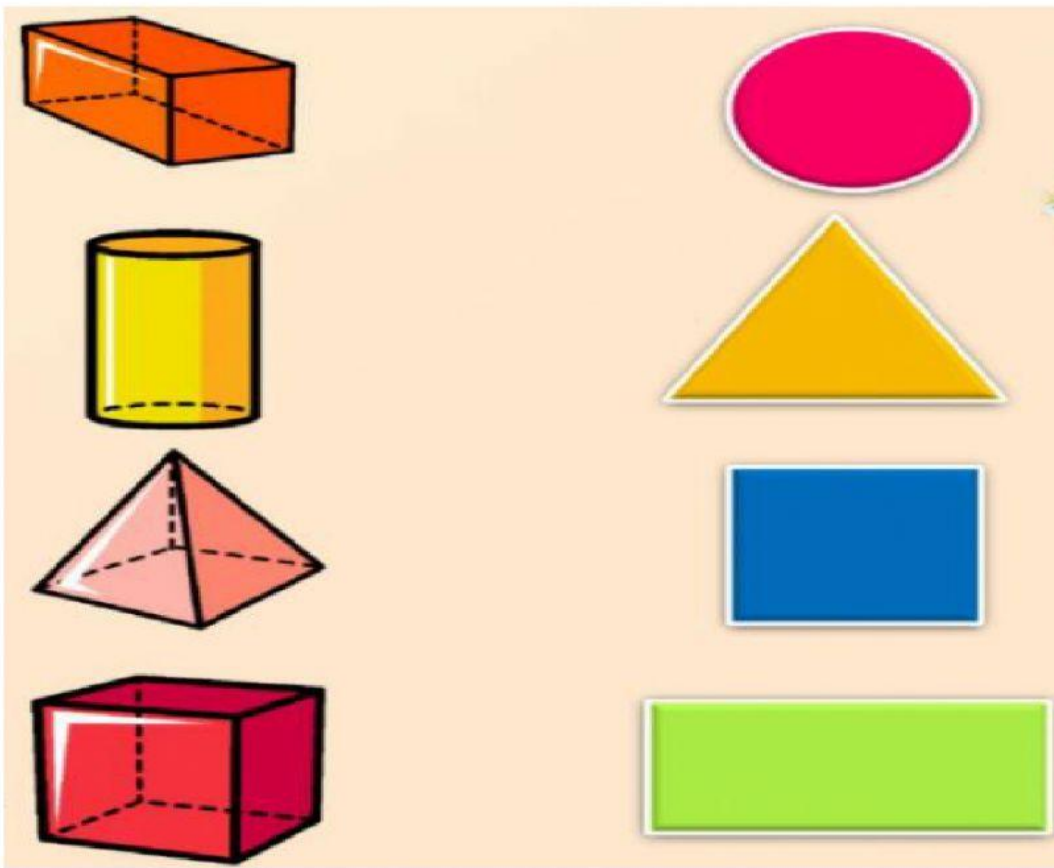


3. Escribo F o V según corresponda

- a. La superficie del cilindro es curva
- b. Un cono tiene dos bases
- c. La esfera gira en todas las direcciones
- d. Una esfera tiene dos bases
- e. Un cilindro tiene dos bases circulares

☐☐☐☐☐


4. Uno con líneas la figura plana que se necesitó para formar el sólido geométrico



5. Completo la tabla según corresponda

CUERPO	NOMBRE	NÚMERO DE CARAS	NÚMERO DE ARISTAS	NÚMERO DE VÉRTICES
	<input type="text"/>	<input type="text"/>	<input type="text"/>	<input type="text"/>
	<input type="text"/>	<input type="text"/>	<input type="text"/>	<input type="text"/>
	<input type="text"/>	<input type="text"/>	<input type="text"/>	<input type="text"/>

6. Escribe el nombre de la forma de sólido geométrico que tiene cada objeto

		
<input type="text"/>	<input type="text"/>	<input type="text"/>
		
<input type="text"/>	<input type="text"/>	<input type="text"/>