



## I.E. Gerardo Arias Copaja

Miss Lita. 1°A° Miss Regina 1°B° y Miss Ruth 1°C°.

### PICTOGRAMAS

1. Completa el siguiente pictograma según la información brindada.

Cada  representa 1 cuaderno

Cuadernos vendidos en la librería de Carolina

DIA	REPRESENTACION	TOTAL
LUNES		3
MARTES		5
MIERCOLES		2
JUEVES		6


























1. ¿Cuántos libros se vendió el lunes? .....
2. ¿Cuántos libros se vendió el jueves?.....
3. ¿Qué día se vendió menos libros?.....
4. ¿Qué día se vendió más libros?.....

2. Observa el pictograma, completa los datos y responde las preguntas.

Jugos vendidos en la juguería de Victoria.

Cada  representa 1 jugo.

JUGOS	REPRESENTACION	TOTAL
PIÑA	 	
PAPAYA	        	
FRESA	    	
NARANJA	      	

1. ¿Cuántos jugos de papaya se vendieron?.....
2. ¿Cuántos jugos de piña se vendieron?.....
3. ¿Qué sabor fue el más preferido?.....
4. ¿Qué sabor se vendió menos?.....