



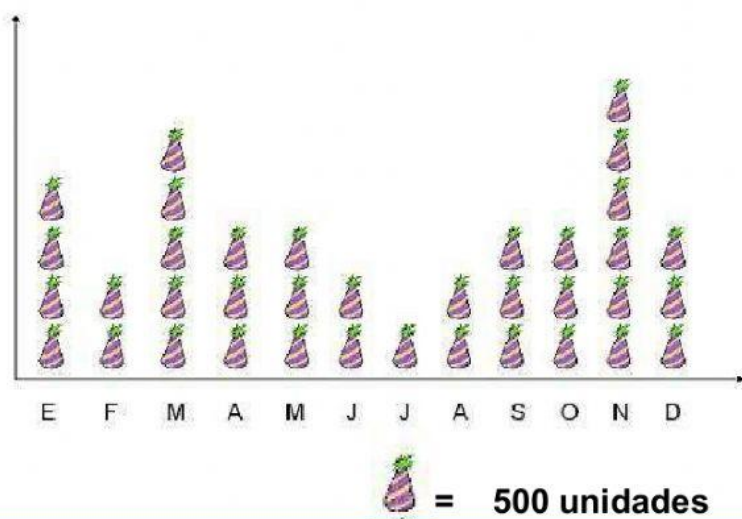
Gimnasio Reino de Castilla

Antes Gimnasio Castillo Campesino 1988

QUIZ ESTADISTICA

Nombre: _____

Observa los siguientes pictogramas y responde.



¿Qué mes se vendió mayor cantidad de productos?

¿Qué mes se vendió menor cantidad de productos?

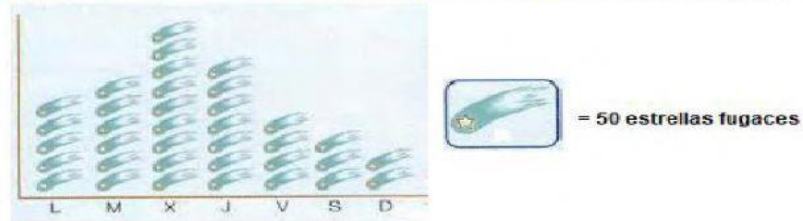
¿Cuántos productos se vendieron en total?

¿Cuántas personas asistieron al cine en el mes de mayo?

MES	CANTIDAD DE ENTRADAS
ENERO	   
FEBRERO	    
MARZO	    
ABRIL	 
MAYO	     
JUNIO	      
	 = 100 personas

¿Cuál es la diferencia entre las personas que asistieron en junio y marzo?

Fernando lleva todo el verano esperando la lluvia de meteoros de agosto. Durante una semana, observó las estrellas fugaces y dibujó este pictograma.



a) Cuenta las estrellas fugaces que Fernando dibujó cada día y completa esta tabla:

Días de la semana	L	M	X	J	V	S	D
nº estrellas fugaces							

b) ¿Cuántas estrellas fugaces vio el viernes?


c) ¿Qué día ha observado más estrellas? ¿Y menos?

d) ¿Cuántas observó en todo el fin de semana?

f) ¿Cuántas más vio el miércoles que el lunes?

g) ¿Cuántas estrellas observó durante toda la semana?

La madre de una compañera de la clase trabaja en la farmacia y tenemos curiosidad por saber la cantidad de mascarillas vendidas durante esta semana. Nos ha dicho que para averiguarlo tendremos que poner en práctica lo que hemos aprendido en las clases de matemáticas y nos ha enseñado el siguiente pictograma.



Días de la semana	Unidades diarias vendidas de mascarillas
Lunes	
Martes	
Miércoles	
Jueves	
Viernes	
Sábado	
Domingo	

Responde según la tabla anterior

- ¿Qué día se han vendido más mascarillas?

Lunes	Martes	Miércoles	Jueves	Viernes	Sábado	domingo
-------	--------	-----------	--------	---------	--------	---------

- ¿Cuántas mascarillas se han vendido entre el viernes y el sábado?

100	300	500	600	700	1000	1300
-----	-----	-----	-----	-----	------	------

- ¿Cuántas mascarillas se vendieron más el lunes que el martes?

100	300	500	600	700	1000	1300
-----	-----	-----	-----	-----	------	------