








Ficha de Matemática

Lea atentamente antes de contestar y marque una sola alternativa correcta.

1	Tamara tenía en su colección 403 estampillas y le regalaron 278. ¿Cuántas estampillas tiene ahora Tamara?	A 125 estampillas.	B 671 estampillas.	C 681 estampillas.
2	En un supermercado hay 750 cajas de jugo de naranja. De jugo de piña hay 200 cajas más. ¿Cuántas cajas de jugo de piña hay?	A 950	B 550	C 350
3	Ana María compró un yogur en \$ 560. También compró un paquete de galletas que valía \$ 330 más que el yogur. ¿Cuál es el valor del paquete de galletas?	A \$ 330	B \$ 890	C \$ 990
4	El primer día de una jornada deportiva asistieron 369 personas. El segundo día asistieron 442 personas. ¿Cuántas personas asistieron en total los dos días de la jornada?	A 173	B 810	C 811
Observa y utiliza los precios de los productos para contestar las preguntas 5, 6 y 7				
<div><div>\$ 185 Helado</div></div> <div><div>\$ 250 Jugo</div></div> <div><div>\$ 200 Completo</div></div> <div><div>\$ 155 Pastel</div></div> <div><div>\$ 300 Bebida</div></div>				
5	Si Claudia compra un jugo y un pastel. ¿Cuánto dinero gasta?	A \$ 405	B \$ 305	C \$ 455
6	Joaquín compró una bebida, un completo y un helado. ¿Cuánto dinero gastó?	A \$ 500	B \$ 685	C \$ 785
7	¿Cuánto dinero más cuesta la bebida que el jugo?	A \$ 300	B \$ 100	C \$ 50
8	Una carrera de autos comenzó con 157 vehículos luego se unieron 50 más, ¿cuántos autos en total participaron?	A 157	B 197	C 207
9	“Hay 385 globos rojos y globos verdes 557” ¿Cuántos globos hay en total?	A 942	B 932	C 832
10	Rosa tiene 9 lápices. Emilia tiene 4 lápices que Rosa. ¿Qué expresión numérica muestra cuántos lápices Emilia?	A $9 + 4 = 13$	B $13 - 4 = 9$	C $9 - 4 = 5$