

ESCOLA CLASSE 08 DE BRAZLÂNDIA

PROFESSORA: _____

ALUNO: _____

DATA: _____

ATIVIDADE

1) COLOQUE OS NÚMEROS VIZINHOS EM ORDEM CRESCENTE.



2) COM BASE NO EXERCÍCIO ACIMA, RESPONDA:

A) CAMILA E SUA FAMÍLIA MORAM NA CASA QUE ESTÁ ENTRE O 4 E 6. QUAL É O NÚMERO DA **CASA** ?

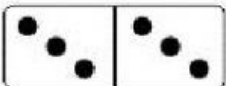
B) JULINHO E SEUS PAIS MORAM NA CASA CUJO NÚMERO É MAIOR QUE 10 E VIZINHO DO 13 E 15. QUAL É O NÚMERO DA **CASA**?

C) O SALÃO DE FESTAS FICA NA CASA CUJO NÚMERO VEM ANTES DA CASA NÚMERO 17. QUAL É O NÚMERO DA **CASA**?

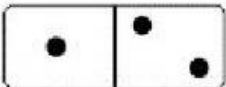
2) COMPLETE A TABELA COM NÚMEROS ATÉ 50.


1		3			6			9	
11	12			15		17			20
	22					27		29	
31		33			36		38		40
	42		44			47		49	

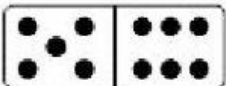
4) QUAL É A SOMA DOS DOMINÓS ?

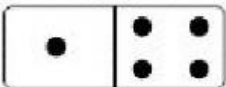
	$3 + 3 = 6$
---	-------------

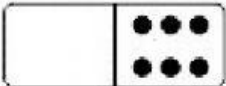
	$_ + _ = _$
---	----------------

	$_ + _ = _$
---	----------------

	$_ + _ = _$
---	----------------

	$_ + _ = _$
---	----------------

	$_ + _ = _$
---	----------------

	$_ + _ = _$
---	----------------

