

ESCOLA CLASSE 08 DE BRAZLÂNDIA

PROFESSORA: _____

ALUNO: _____

DATA: _____

ATIVIDADE

1) COLOQUE OS NÚMEROS VIZINHOS EM ORDEM CRESCENTE?





2) COM BASE NO EXERCÍCIO ACIMA, RESPONDA:

A) CAMILA E SUA FAMÍLIA MORAM NA CASA QUE ESTÁ ENTRE O 4 E 6. QUAL É O NÚMERO DA **CASA** ?



B) JULINHO E SEUS PAIS MORAM NA CASA CUJO NÚMERO É MAIOR QUE 10 E VIZINHO DO 13 E 15. QUAL É O NÚMERO DA **CASA** ?

C) O SALÃO DE FESTAS FICA NA CASA CUJO NÚMERO VEM ANTES DA CASA NÚMERO 17. QUAL É O NÚMERO DA **CASA**?



3) CALCULE:



$$\square + \square = \square$$



$$\square + \square = \square$$



$$\square + \square = \square$$

$$\square + \square = \square$$

$$\square + \square = \square$$

$$\square + \square = \square$$