
 Manahej	Département de Sciences	Évaluation 3: Prendre soin du jardin.
	EB 2:	

### Exercice 1 (1.5 pt.)

Glisse chaque outil de jardinage au bon endroit.

	Le rôle	L'outil de jardinage
a.	<u>Ramasser</u> les feuilles mortes. 	
b.	<u>Tondre</u> le gazon. 	
c.	<u>Couper</u> les branches. 	



## Exercice 2 (1.5 pt.)

Relie convenablement.

La pelle



La brouette





L'arrosoir



## Exercice 3 (1 pt.)

Choisis les outils utilisés pour arroser les plantes.



### Exercice 3 (1 pt.)

Observe le document puis réponds aux questions suivantes.



Document 1 : Mirna et Zayn plantent des graines.

Zayn et Mirna plantent des graines .

D'abord, Ils creusent un trou dans le sol.

Puis, ils placent les graines dans le trou et l'ont recouvert de terre.

Enfin, Ils arrosent les graines dans le sol.

1. **Nomme** l'outil utilisé pour creuser un trou dans la terre.

2. **Nomme** l'outil utilisé pour arroser les graines.