



LA HORA

EN PUNTO Y MEDIA



Une con flechas:



Las 8 en punto

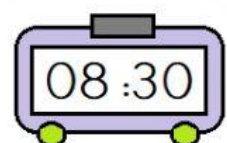
Las 10 en punto

Las 3 en punto

Las 2 en punto



Selecciona la correcta:



Las 2 en punto

Las 8 en punto

Las 8 y media

La 1 en punto

Las 3 y media

La 1 y media

Las 5 en punto

Las 6 en punto

Las 6 y media

Las 8 y media

Las 6 en punto

Las 3 y media

LA HORA

EN PUNTO Y MEDIA



Elige la hora:



¿Qué reloj marca...?

...las tres en punto?



...las ocho y media?



...las ocho en punto?



...las cinco y media?

