

ESCOLA:


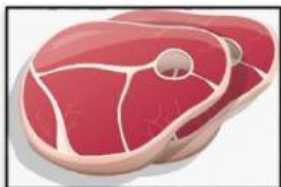
DATA:

ALUNO (A):

ATIVIDADE

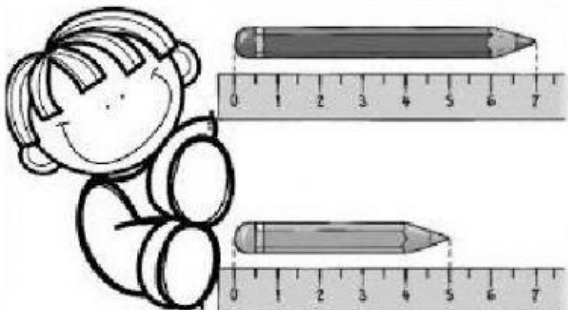
1. ORGANIZE OS OBJETOS, MOVA CADA UM PARA A COLUNA CORRETA:

COMPRAMOS A:		
METRO	QUILO	LITRO



2. OBSERVE E RESPONDA A QUANTIDADE EM CADA QUESTÃO ABAIXO:

a) ESCREVA QUANTOS CENTÍMETROS TEM CADA LÁPIS? DEPOIS CLIQUE NA IMAGEM QUE TEM A MAIOR QUANTIDADE DE CENTÍMETROS:



CENTÍMETROS

CENTÍMETROS

b) ESCREVA QUANTAS GRAMAS TEM EM CADA IMAGEM? DEPOIS CLIQUE NA IMAGEM QUE TEM A MAIOR QUANTIDADE DE GRAMAS:



GRAMAS



GRAMAS

c) ESCREVA QUANTOS LITROS TEM EM CADA IMAGEM? DEPOIS CLIQUE NA IMAGEM QUE TEM A MAIOR QUANTIDADE DE LITROS:



LITROS



LITROS