

## SISTEMAS DEL CUERPO HUMANO

1. Indique el nombre a cada sistema del cuerpo humano correspondiente.

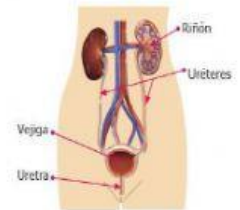
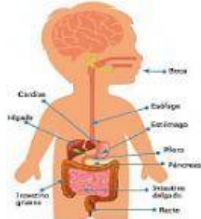
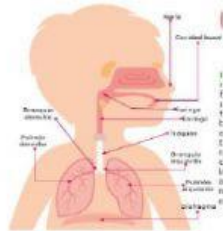
**Sistema  
Circulatorio**

**Sistema  
Excretor**

**Sistema  
Nervioso**

**Sistema  
Respiratorio**

**Sistema  
Digestivo**



1. Una con una línea el nombre del sistema que corresponde a cada función.

Sistema Excretor

Nos ayuda a obtener los nutrientes de la comida.

Sistema Digestivo

Nos ayuda a obtener oxígeno y expulsar dióxido de carbono al respirar

Sistema Respiratorio

Es el encargado de coordinar todos los movimientos de nuestro cuerpo.

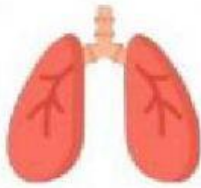
Sistema Circulatorio

Nos ayuda a transportar la sangre por el cuerpo.

Sistema Nervioso

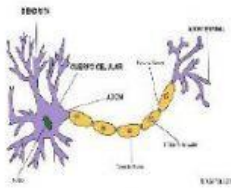
Nos ayuda a expulsar el exceso de agua y desechos cuando vamos al baño.

3. Une con una línea el órgano que corresponde a cada uno de los sistemas.



Pulmones

**Sistema  
Digestivo**



Neurona

**Sistema  
Excretor**



Corazón

**Sistema  
Respiratorio**



Estómago

**Sistema  
Nervioso**



Vejiga

**Sistema  
Circulatorio**