

OBSERVA CADA PAREJA DE IMÁGENES Y SELECCIONA AQUELLA EN LA QUE SE REQUIERA MENOS ESFUERZO.



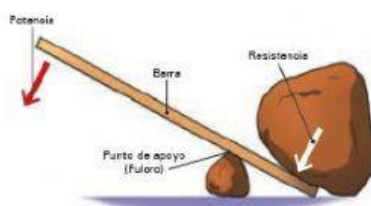
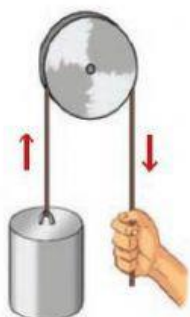
ANOTA EL NOMBRE DE LA MÁQUINA SIMPLE QUE REPRESENTA CADA ILUSTRACIÓN.

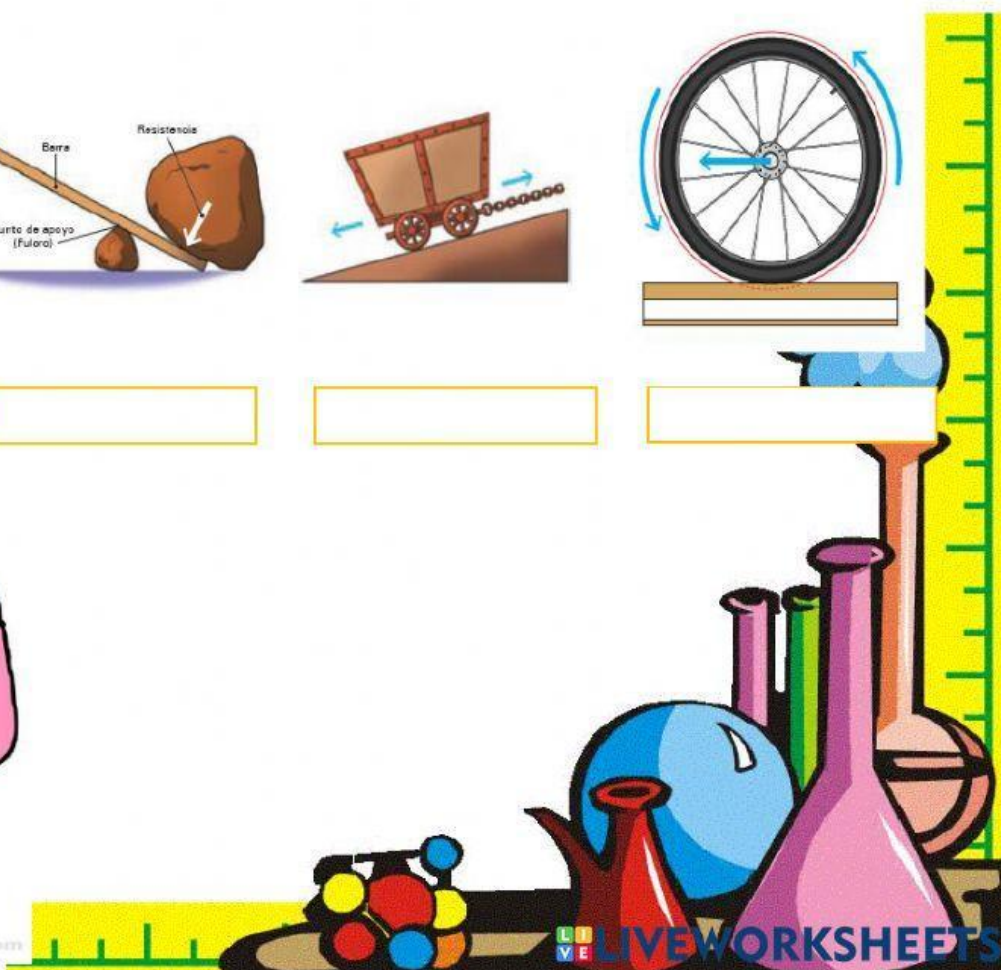
Plano inclinado

Palanca

Polea

Rueda





UNE CON UNA LÍNEA LA FUNCIÓN DE LA MÁQUINA EN CADA SITUACIÓN.

Impide el rozamiento de la carga con el piso.

Cambia la dirección de la fuerza y disminuye la resistencia de la carga.

Aumenta la fuerza que se aplica mediante un punto de apoyo.



OBSERVA LA IMAGEN Y SELECCIONA LA RESPUESTA EN CADA PREGUNTA.

La palanca es una máquina...

a) simple. b) compuesta.

El esfuerzo está representado por...

a) la persona. b) la tapa.

La resistencia está representada por...

a) la barra de metal. b) la tapa.

