

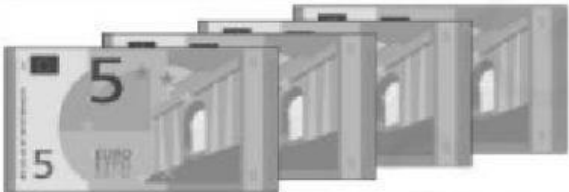







## Más euros y céntimos

1. Completa la tabla fijándote en el apartado a).

	Euros	Céntimos	Total
a)	 = <u>3 €</u>	 = <u>35 cts.</u>	<u>3,35 €</u>
b)	 = <u>      </u>	 = <u>      </u>	<u>      </u>
c)	 = <u>      </u>	 = <u>      </u>	<u>      </u>
d)	 = <u>      </u>	 = <u>      </u>	<u>      </u>

Recuerda:



1€ = 100 cts



0,50 € = 50 cts



0,20 € = 20 cts



0,05 € = 5 cts

## 2. Relaciona las cantidades que sean iguales:

- |          |           |
|----------|-----------|
| 1,75€ •  | • 650 cts |
| 0,40€ •  | • 605 cts |
| 1€ •     | • 40 cts  |
| 6,50€ •  | • 100 cts |
| 0,04 € • | • 4 cts   |
| 5,98 € • | • 175cts  |
| 6,05€ •  | • 598 cts |

## 3. Relaciona las cantidades que sean iguales

- |            |   |
|------------|---|
| 300 cts •  | • Tres euros y ochenta y cinco céntimos |
| 875 cts •  | • Nueve euros y setenta céntimos        |
| 385 cts •  | • Ocho euros y setenta y cinco céntimos |
| 328cts •   | • Doce euros y setenta céntimos         |
| 12070cts • | • Ochenta y nueve céntimos              |
| 970 cts •  | • Tres euros                            |
| 89cts •    | • Tres euros y veintiocho céntimos      |