



KELAS 3 SD/MI

LKPD Tema 6

Subtema 4

Pembelajaran 6

OLEH : AYUNA KURNIA DAROJAH



The background is a light beige textured surface. It is decorated with various colorful geometric shapes and patterns: a blue octagon with pink star-like lines on the left; a red starburst and a blue square on the top right; a yellow and blue spiral on the top right; a blue circle on the right edge; a white and pink spiral on the bottom left; a blue starburst on the bottom left; a yellow starburst and a red shape on the bottom right; and a yellow semi-circle at the bottom center.

MENGENAL

Keliling & Luas Bangun Datar Satuan Tidak Baku

SENIN, 26 APRIL 2021



Ayo Kita Belajar

Apakah kamu tau apa itu Keliling?
Pernahkan kamu menghitung luas
sebuah ubin di rumah kamu?
Yuk, tonton video dibawah ini yah!



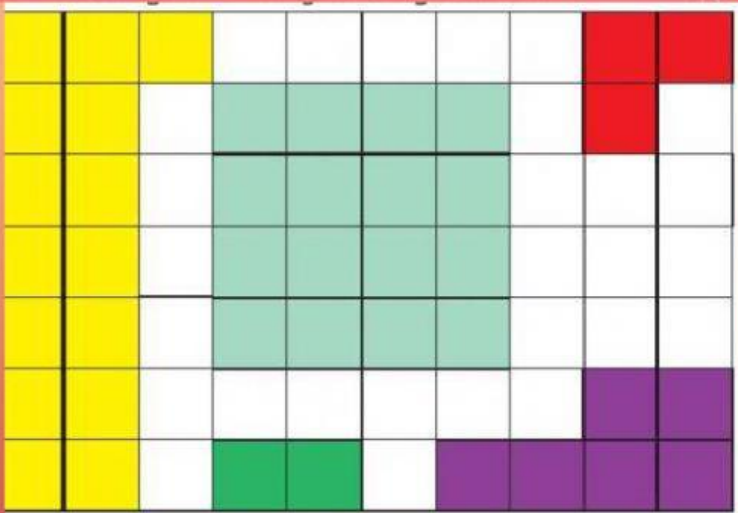
MISI 1

NAMA _____ KELAS _____

NO _____ SCORE _____

1. Setelah kamu menonton video diatas, apa yang kamu ketahui tentang luas, coba kamu tuliskan ?

2. Ayo Kita menghitung luas bangun dibawah ini!



a. Luas bangun yang berwarna kuning adalah petak satuan

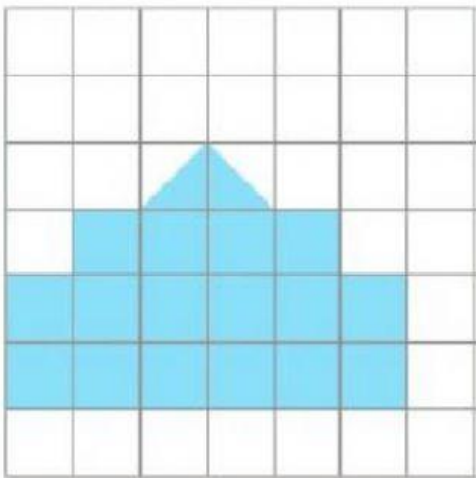
b. Luas bangun yang berwarna hijau adalah petak satuan

c. Luas bangun yang berwarna ungu adalah petak satuan

MISI 2

Hitung Luas daerah sesuai dengan gambar ya! Pilih salah satu jawaban yang dianggap benar!

1. Luas bangun dibawah ini adalah...persegi

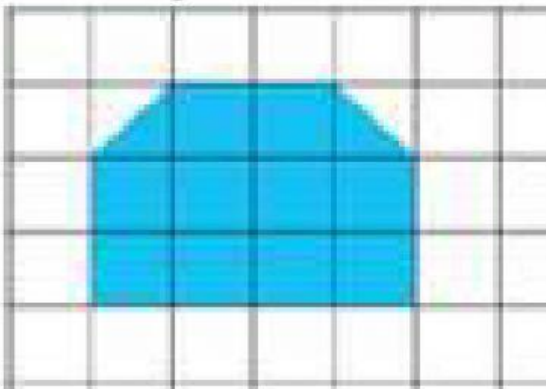


a. 16 satuan petak

b. 17 satuan petak

c. 18 satuan petak

2. Luas bangun dibawah ini adalah... persegi



a. 11 satuan petak

b. 12 satuan petak

c. 13 satuan petak

3. Luas bangun no 2 adalah... petak satuan segitiga

a. 22

b. 23

c. 24