


Pārbaudes darbs dabas zinībās 3.klasei

(Zeme Saules sistēmā, horizonts un debespuses, laiks)

1. Aplūko attēlu! Pieraksti, kurā debespusē atrodas koks, ezers, saule un māja! Raksti debespuses pilnā vārdā!



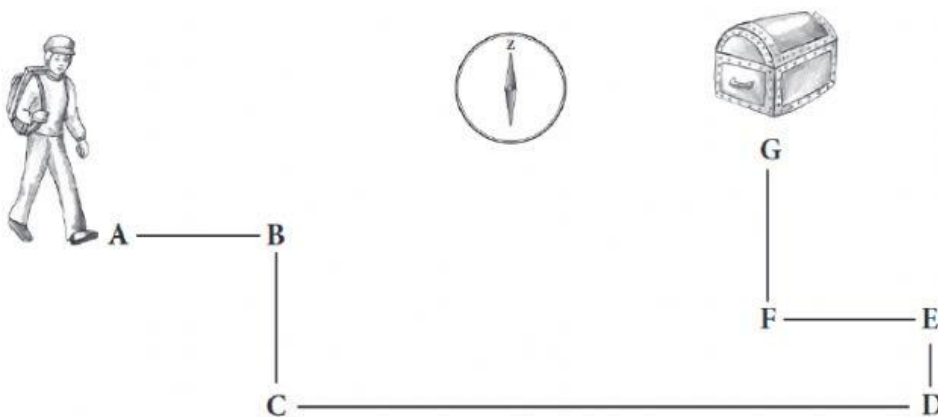
2. Tu stāvi ar seju pret ziemeļiem. Kur atrodas pārējās debespuses? Ieraksti!

Kur atrodas dienvidi? _____

Kura debespuse atrodas pa labi no tevis? _____

Kura debespuse atrodas pa kreisi no tevis? _____

3. Dārgumu meklētājs devās pie bagātību lādes. Pieraksti, kurā virzienā viņš gāja katrā ceļa posmā! Debespuses raksti ar lieliem apzīmējuma burtiem!



A-B _____ C-D _____ E-F _____
 B-C _____ D-E _____ F-G _____


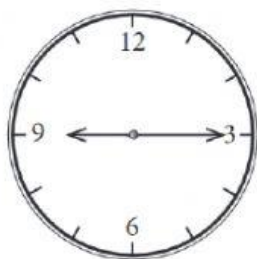
4. Ieraksti tukšajās vietās attiecīgās debespuses nosaukumus!

Debesusi, kur lec saule, sauc par _____. Saule noriet _____ . Ierīci, ar kuru var precīzi noteikt debespuses, sauc par _____. Koka kuplākais zaru vainags ir _____ pusē. Uz akmeņiem sūnas vairāk aug _____ pusē.

5. Ieraksti lodziņos zem zīmējumiem laiku, ko rāda katrs pulkstenis!

dienā

vakarā



6. Aplūko, cik rāda pulkstenis un atbildi uz jautājumiem! Ieraksti tukšajos lauciņos aprēķināto laiku! Rakstot laiku neatstāj atstarpī starp cipariem un burtiem!

16:00

Brālis atnāca mājās no skolas 15.30. Pirms cik ilga laika tas bija?

Autobuss atiet 16.28. Pēc cik minūtēm tas būs?



Mamma nāk mājās no darba pulksten 18.00. Pēc cik stundām tas būs?

7. Izlasi televīzijas programmas fragmentu! Savelc pulkstenī redzamo laiku ar atbilstošā raidījuma sākuma laiku!

20.30 Panorāma.

21.20 Kas notiek Latvijā?


22.45 Zebra. Drošība un ātrums.



8. Izvēlies un atzīmē teikumus, kuros rakstīts par Sauli!

- Zvaigzne, ap kuru riņķo Zeme.
- Debess ķermenis, kas izstaro gaismu un siltumu.
- Pavadonis, kas riņķo ap Zemi.
- Ķermenis, kam ir lodes forma.
- Tāla zvaigzne, kas naktī redzama pie debesīm.
- No rīta uzlec un vakarā noriet.

9. Kuras pazīmes raksturīgas Saulei? Atzīmē, uzspiežot uz pareizās atbildes!

<input type="checkbox"/> Apaļa		<input type="checkbox"/> Izstaro gaismu
<input type="checkbox"/> Karsta		<input type="checkbox"/> Uz tās ir ūdens un gaiss
<input type="checkbox"/> Riņķo ap Sauli		<input type="checkbox"/> Ap to riņķo pavadonis
<input type="checkbox"/> Griežas ap asi		<input type="checkbox"/> Tai nav cietas virsmas

10. Kuras pazīmes raksturīgas Zemei? Atzīmē, uzspiežot uz pareizās atbildes!

<input type="checkbox"/> Apaļa		<input type="checkbox"/> Izstaro gaismu
<input type="checkbox"/> Karsta		<input type="checkbox"/> Uz tās ir ūdens un gaiss
<input type="checkbox"/> Riņķo ap Sauli		<input type="checkbox"/> Ap to riņķo pavadonis
<input type="checkbox"/> Griežas ap asi		<input type="checkbox"/> Tai nav cietas virsmas

11. Kuras pazīmes raksturīgas Zemei? Atzīmē, uzspiežot uz pareizās atbildes!

<input type="checkbox"/> Nav gaisa		<input type="checkbox"/> Riņķo ap Zemi
<input type="checkbox"/> Ir gaiss		<input type="checkbox"/> Ir planēta
<input type="checkbox"/> Nav ūdens		<input type="checkbox"/> Ir dzīvība
<input type="checkbox"/> Ir ūdens		<input type="checkbox"/> Nav dzīvības

12. Kuras pazīmes raksturīgas Mēnesim? Atzīmē, uzspiežot uz pareizās atbildes!

Nav gaisa

Ir gaiss

Nav ūdens

Ir ūdens



Riņķo ap Zemi

Ir planēta

Ir dzīvība

Nav dzīvības