

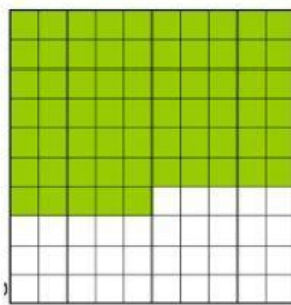



QUESTÃO 01- Associe cada figura a seguir com a respectiva porcentagem que representa a parte colorida:



A) 81%

B) 39%

C) 65%

D) 54%

QUESTÃO 02- Escreva cada porcentagem a seguir na forma decimal:

A) 12%

B) 27%

C) 96%

D) 81%

QUESTÃO 03- Calcule:

A) 10% de 87

B) 15% de 120

C) 25% de 84

D) 50% de 36

E) 90% de 60

QUESTÃO 04- Uma estrada de extensão igual a 250 km está sendo pavimentada e até o momento, já foram concluídas 42% da pavimentação. Dessa maneira, em km, a parte que ainda falta para ser pavimentada equivale a:

A) 130

B) 145

C) 123

D) 105

E) 118

QUESTÃO 05- Ao comprar seu novo celular, Mateus pagou a vista e por isso recebeu um desconto de 12%. Se o preço do celular era de 2300 reais, qual foi o valor do desconto recebido por Mateus?

A) 150

B) 185

C) 218

D) 276

E) 312