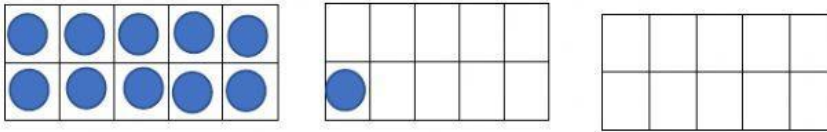
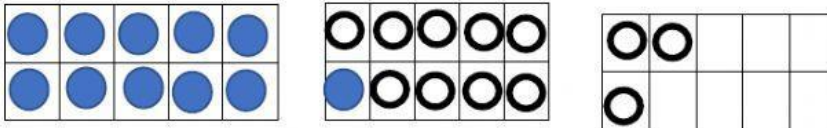


TABLEROS DE 10

1. En el tablero puse 11 fichas

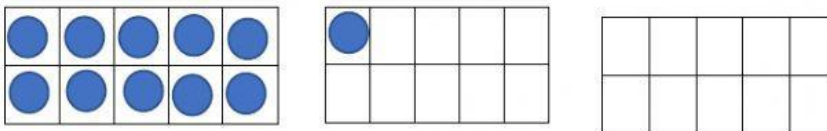


Y después le puse 12 fichas

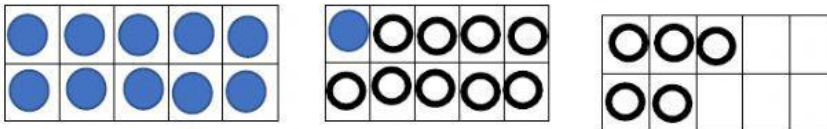


¿Cuántas fichas tengo ahora?

2. Martín puso en el tablero 9 fichas

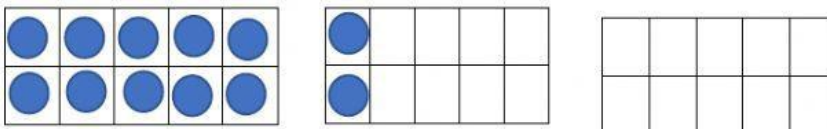


Después Juan le puso 14 fichas más

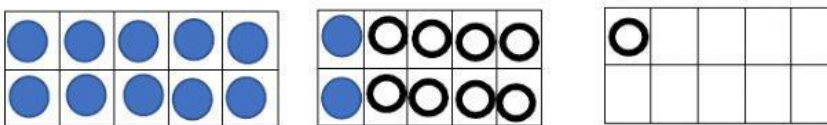


¿Cuántas fichas tienen ahora?

3. A Martita le salieron en los dados primero 12 y colocó esas fichas en el tablero



Arrojó de nuevo los dados , le salieron 9 y puso esas fichas en el tablero que ya tenía



¿Cuántas fichas juntó en total?