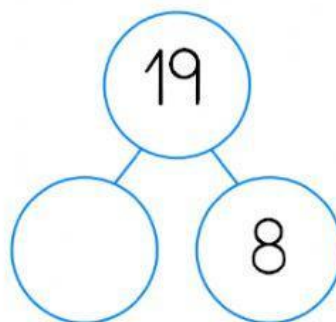
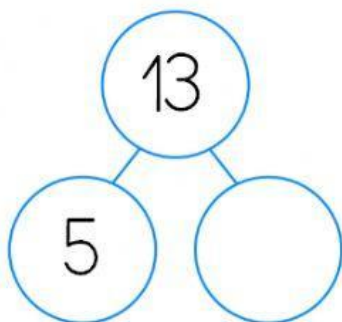
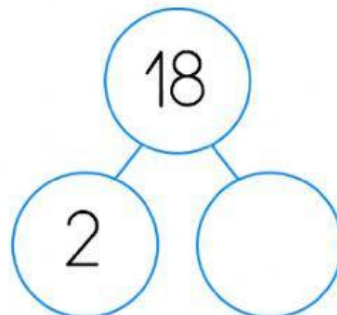
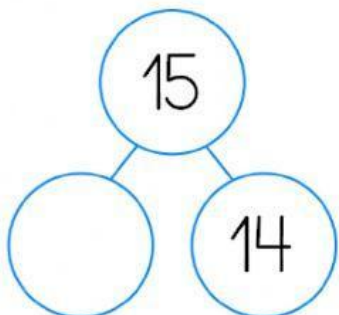


Componer y descomponer números hasta el 20

1. Completa los esquemas con los números que faltan.



2. Une cada número con su descomposición.

Número	Descomposición
14	$9 + 4$
20	$15 + 1$
13	$6 + 8$
16	$3 + 17$
19	$8 + 11$