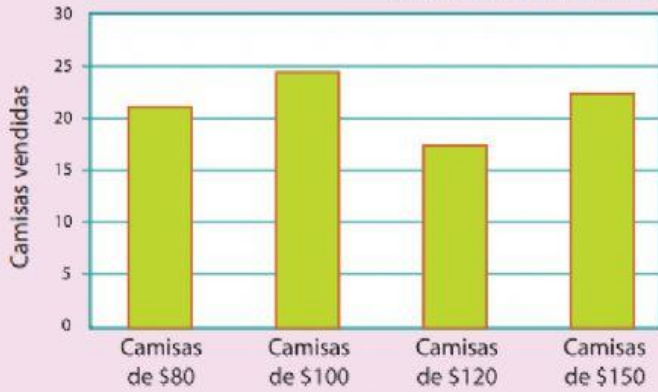


Las siguientes gráficas representan las ventas de diferentes tipos de camisas en una tienda durante dos semanas.

analícenlas y contesten lo que se pide.

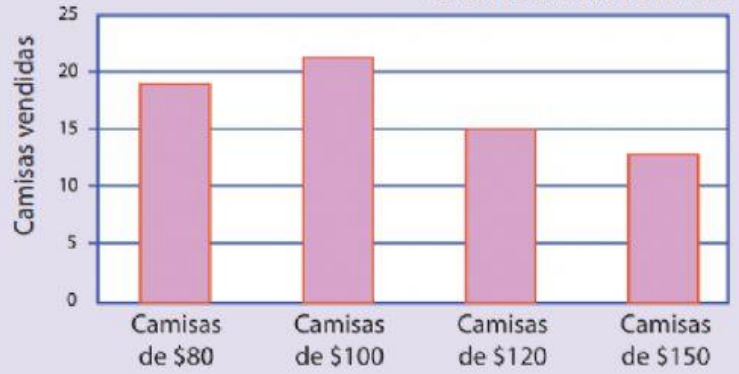


Venta de camisas: semana 1



Tipos de camisas

Venta de camisas: semana 2



Tipos de camisas

Después de analizar cada gráfica, escoge la respuesta correcta a cada pregunta.



Selecciona la respuesta correcta.

a) ¿Cuántos tipos de camisas se registran en las gráficas?

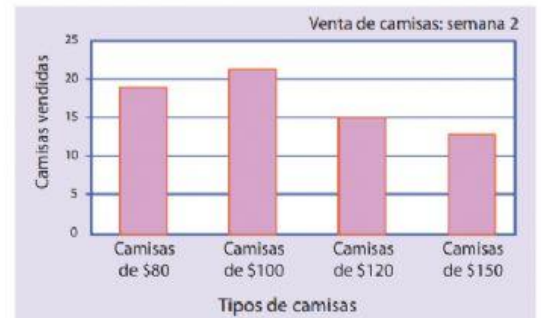
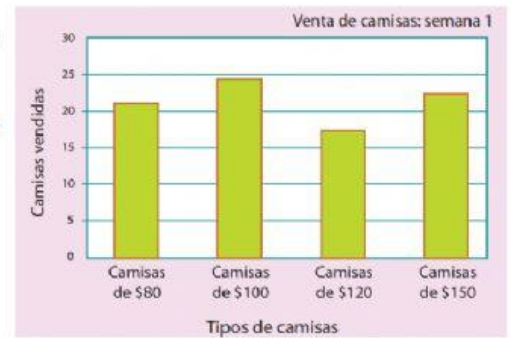
¿Cuáles son?

b) En la semana 1, ¿cuál fue el precio de la camisa más vendida?

c) ¿Cuántas camisas de \$80 se vendieron en la semana 2?

d) ¿En qué semana se vendieron más camisas?

e) Considerando las ventas de las dos semanas, ¿cuál es el tipo de camisa que menos se vendió?



FELICIDADES
Por tu esfuerzo y empeño

LIVEWORKSHEETS