

MATEMÁTICAS FICHA 3 13-15 ABRIL

Une cada ordinal con el caballo correspondiente del dibujo.

quinto

décimo

segundo

octavo

sexto

primero

noveno

cuarto

tercero

séptimo

Escribe con letra el número ordinal inmediatamente anterior y el siguiente.

<input type="text"/>	octavo	<input type="text"/>
<input type="text"/>	tercero	<input type="text"/>
<input type="text"/>	quinto	<input type="text"/>
<input type="text"/>	noveno	<input type="text"/>

11.º → undécimo

12.º → duodécimo

13.º → decimotercero

14.º → decimocuarto

15.º → decimoquinto

16.º → decimosexto



17.º → decimoséptimo

18.º → decimoctavo

19.º → decimonoveno

20.º → vigésimo

Enumera con letra los animales de la izquierda.



→ _____



→ _____



→ _____



→ _____



→ _____




→ _____



→ _____



→ _____



→ _____



→ _____