


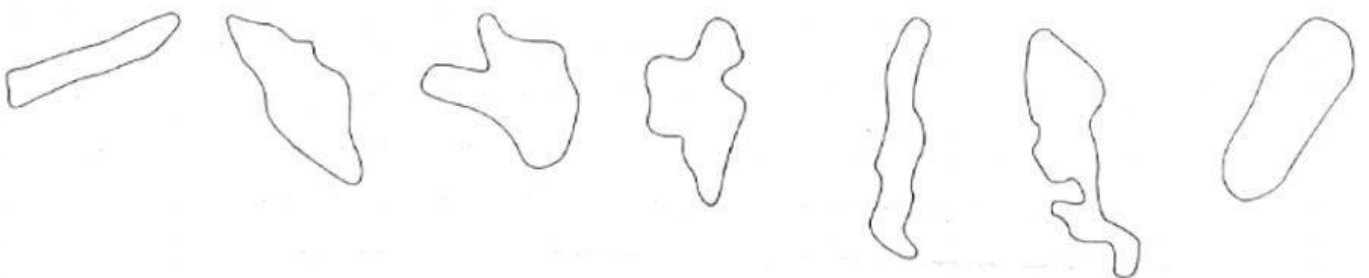
Ezers

1. Zivju gārnis ir nolēmis pamieļoties ar tuvējā ezerā mītošajām zivīm. Palīdzi zivju gārnim atrast ezeru!
pie ezera attēla ieraksti to zivju nosaukumus, kuras tur mīt!



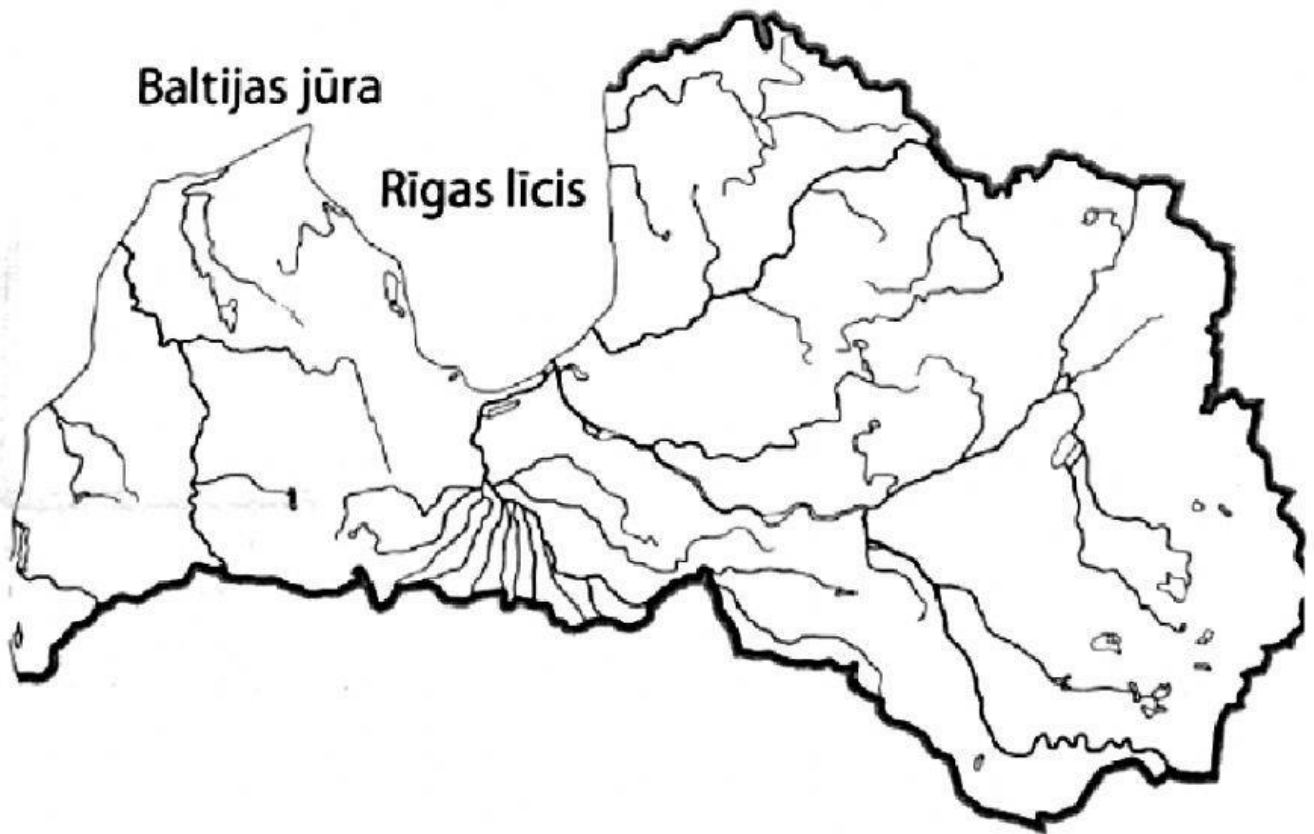
2. Kontūrkartē sameklē Latvijas lielāko ezeru attēlus –
Lubānu, Burtnieku, Rāznas, Engures, Liepājas, Usmas un Babītes ezeru!

Savieno pareizi!

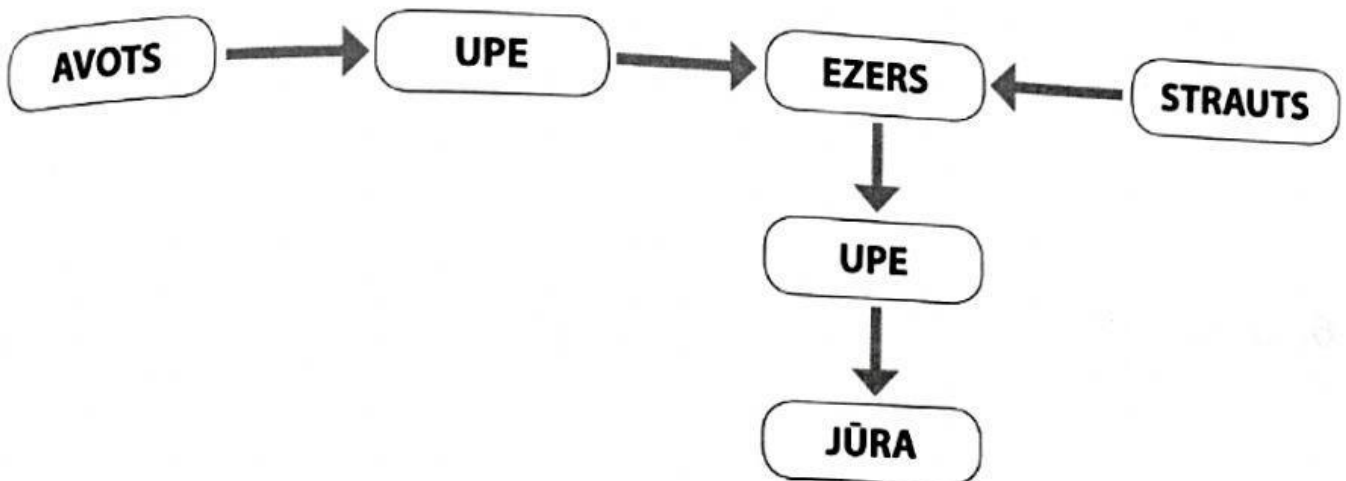


Pievieno kartei ezeru nosaukumus!

Lubāns , Burtnieks, Rāznas ez. , Engures ez. , Usmas ez. , Babītes ez.



3. Atzīmē – Ietek vai iztek!



4. Salīdzini ezeru ar upi, ezeru ar jūru un ezeru ar dīķi! Kas tiem kopīgs, uz ar ko tie atšķiras?

Raksturīgs tikai ezeram -	Raksturīgs ezeram un upei – Ūdens,	Raksturīgs tikai upei -
Raksturīgs tikai ezeram -	Raksturīgs ezeram un jūrai -	Raksturīgs tikai jūrai -
Raksturīgs tikai ezeram -	Raksturīgs ezeram un dīķim -	Raksturīgs tikai dīķim -

5. Pabeidz teikumus!

Pēc platības Latvijas lielākais ezers ir _____.

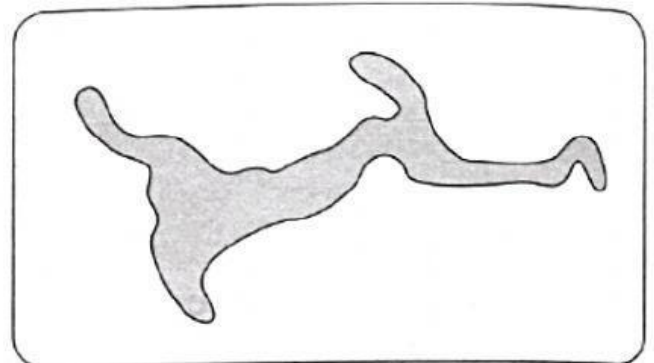
Latvijas dziļākais ezers ir _____.

Visvairāk salu ir _____.

No Rāznas ezera iztek _____ upe. Tā ietek _____.

Pa _____ ezeru iet Kurzemes un Zemgales robeža.

6. Izmantojot Latvijas karti, pēc kontūras nosaki, kā sauc šo ezeru!
Tas atrodas Latgales augstienē.



8. Diagrammā iezīmē šo ezeru lielāko dziļumu!

Rāznas ezers – 17 m

Drīdzis – 65 m

Liepājas ezers – 3 m

Usmas ezers – 27 m

m	Rāznas ez.	Drīdzis	Liepājas ez.	Usmas ez.
0				
10				
20				
30				
40				
50				
60				
70				

Sarindo ezerus, sākot ar seklāko, beidzot ar dziļāko!

9. Uzraksti aprakstu par tuvāko ezeru savā apkārtnē!

(Kuras upes ietek, un kuras – iztek? Kādi ir ezera krasti? Cik ezers ir dziļš? Kādas zivis tajā mīt un kādi augi aug?)

10. Kādi drošības noteikumi tev jāievēro, dodoties pētīt ezeru vai kādu citu ūdenstilpi?

1. _____
2. _____
3. _____
4. _____

Paldies par darbu! Neaizmirsti norādīt savu vārdu!