

ESCOLA ESTADUAL "CORONEL SILVINO PEREIRA"

DISCIPLINA:
História/Geografia

PROFESSORAS
Marcília/Andréia

ANO:
2021

S.S.P: Cíntia/Neide

**ATIVIDADES COMPLEMENTARES DE
INTERVENÇÃO
PET 1**

NOME:

TURMA:

Assista o vídeo abaixo sobre os principais tipos de gráfico:



Agora leia os textos a seguir:

O povo brasileiro

Em, 2020, a população absoluta ou total do Brasil ultrapassa 210 milhões de habitantes, o que fazia do país o sexto mais populoso do mundo, pois cedeu o quinto lugar ao Paquistão. A tendência para os próximos anos é de que esse número continue aumentando.

A população brasileira se distribui irregularmente pelo território. O Brasil apresenta baixa densidade demográfica de aproximadamente 24 hab./Km², pois apesar de possuir grande população absoluta, seu território é bastante extenso. É considerado, assim, um país pouco povoado, porém nas áreas próximas à faixa litorânea a concentração de população.

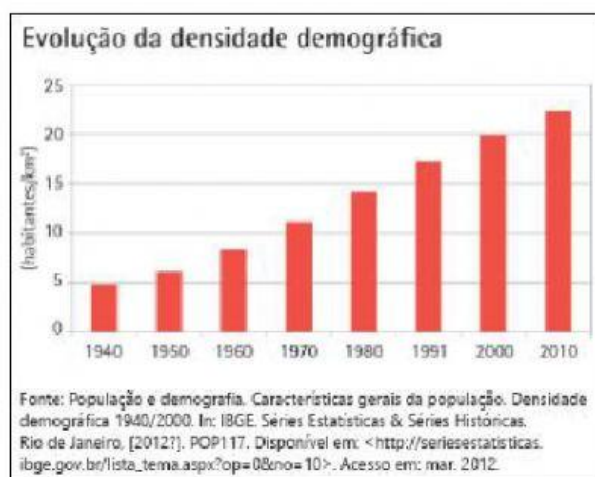
Texto adaptado: Plano de Estudos Tutorado de Geografia – 2021

Conforme dados do Censo Demográfico de 2010, realizado pelo Instituto Brasileiro de Geografia e Estatística (IBGE), a população total do Brasil é de 190.755.799 habitantes. Esse elevado contingente populacional coloca o país entre os mais populosos do mundo. O Brasil ocupa hoje o quinto lugar dentre os mais populosos, sendo superado somente pela China (1,3 bilhão), Índia (1,1 bilhão), Estados Unidos (314 milhões) e Indonésia (229 milhões).

A **população brasileira** está irregularmente distribuída no território, pois há regiões densamente povoadas e outras com baixa densidade demográfica. A população brasileira estabelece-se de forma concentrada na Região Sudeste, com 80.364.410 habitantes; o Nordeste abriga 53.081.950 habitantes; e o Sul acolhe cerca de 27,3 milhões. As regiões menos povoadas são: a Região Norte, com 15.864.454, e o Centro-Oeste, com pouco mais de 14 milhões de habitantes.

<https://brasilecola.uol.com.br/brasil/a-populacao-brasileira.htm> Acesso 22/04/2021

Observe atentamente os gráficos abaixo:



Fonte do gráfico: IBGE, Atlas Geográfico Escolar, 7ª Edição (2016), pág 114.

1-Sobre o gráfico acima responda:

a) O título do gráfico:

b) Indique o que demonstra o:

Eixo vertical

Eixo horizontal

2-Sobre a densidade demográfica do Brasil verifique as alternativas verdadeiras:

A – Densidade demográfica ou população relativa é a distribuição da população em determinada área. No Brasil a densidade demográfica evoluiu ao longo dos anos de 1940 a 2010.

B - Densidade demográfica ou população relativa é a distribuição da população em determinada área. No Brasil a densidade demográfica regrediu ao longo dos anos de 1940 a 1991, havendo um ligeiro aumento entre os anos 2000 e 2010.

C – Entre os anos de 1940 a 1970 a densidade demográfica do Brasil permaneceu estática, e começa a evoluir de 1980 a 2010.

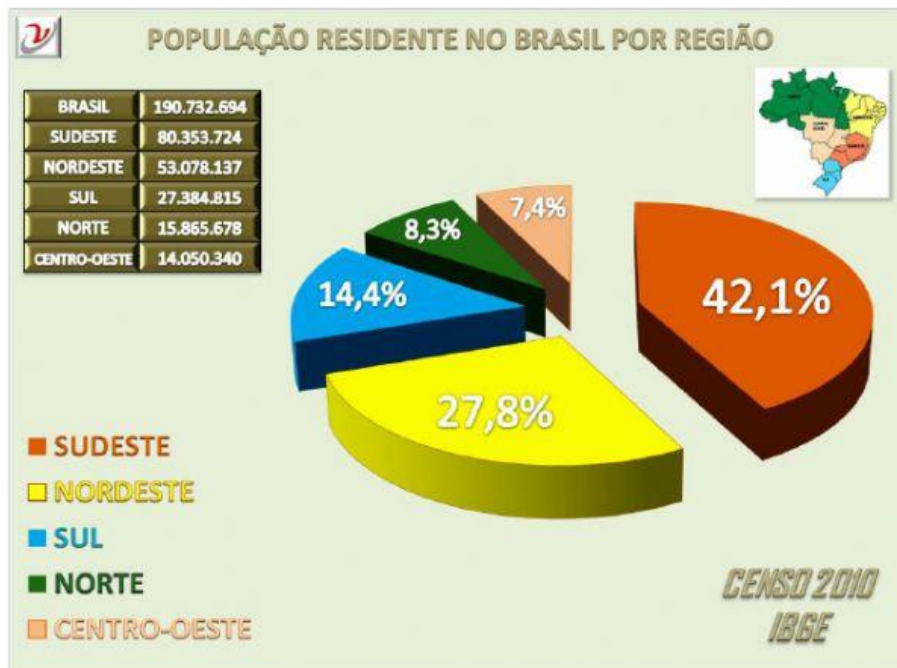
D - Densidade demográfica ou população relativa do Brasil é considerada baixa porque apesar do Brasil possuir grande população absoluta, seu território é bastante extenso, desta forma ele é um país populoso, mais pouco povoado.

Agora marque abaixo a opção correta:

() As alternativas A, B, e D são verdadeiras. () As alternativas A e D são verdadeiras.

() As alternativas B e C são verdadeiras. () Somente a alternativa D é verdadeira.

3-Considere o gráfico a seguir:



https://territoriodepesquisas.files.wordpress.com/2010/11/pop_censo_2010. Acesso 22/04/2021.

a) Qual é o tipo de gráfico acima?

b) O que está sendo representado no gráfico acima?

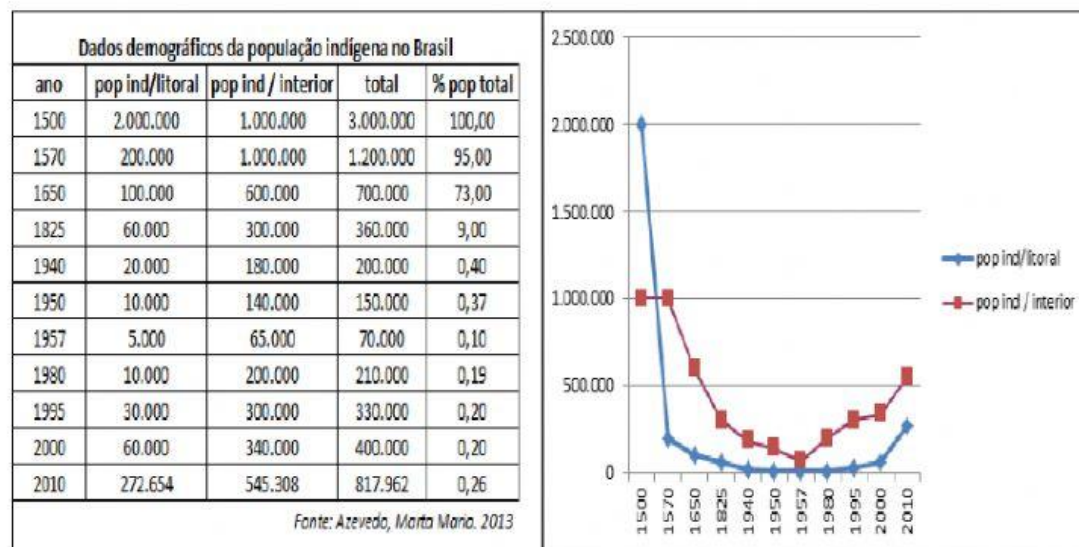
c) A população brasileira está distribuída de maneira irregular no território. A Região do Brasil que apresenta o maior número de habitantes é:

- a) Norte b) Sudeste c) Centro-Oeste d) Sul e) Nordeste

4-Assinale a alternativa que **NÃO** apresenta um dos motivos responsáveis pela concentração populacional no Brasil.

- a) Colonização concentrada em algumas faixas do território.
b) Atividades econômicas mal distribuídas pelo espaço.
c) Industrialização realizada primordialmente nos centros econômicos e de poder.
d) Urbanização acelerada desde os tempos coloniais.
e) Estabelecimento de oligarquias regionais que comandavam o território durante vários períodos da história brasileira. <https://exercicios.mundoeducacao.uol.com.br/exercicios-geografia-brasil> Acesso 22/04/21

5-Leia o texto: Os índios foram e ainda são personagens muito importantes que compõem uma parte da nossa história. Com a expansão da colonização por volta de 1500, a população indígena sofreu um grande impacto. O trabalho forçado e as doenças dizimaram grande parte da população.



<http://www.funai.gov.br/index.php/indio-nobrasil/quem-sao> Acesso 22/04/2021

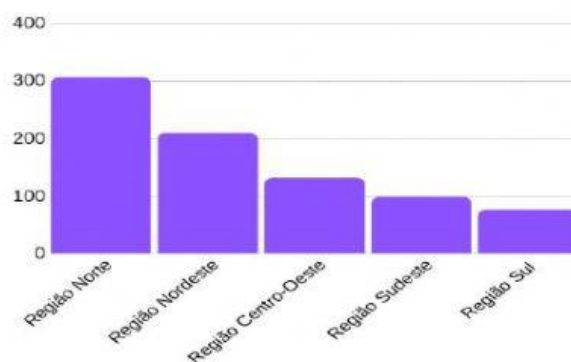
Após análise do gráfico acima, complete o texto a seguir.

Segundo dados publicados pela FUNAI, a população indígena em 1500 é de aproximadamente habitantes, sendo que aproximadamente 2.000.000 estavam nos litorais e 1.000.000 interior. Em 1650 esse número caiu para

6-Uma pesquisa realizada em 2010 pelo IBGE constatou que o cenário atual tem mudado em relação a um dado muito importante, o aumento da proporção de indígenas urbanizados. Observe as imagens e responda:

Imagem A.

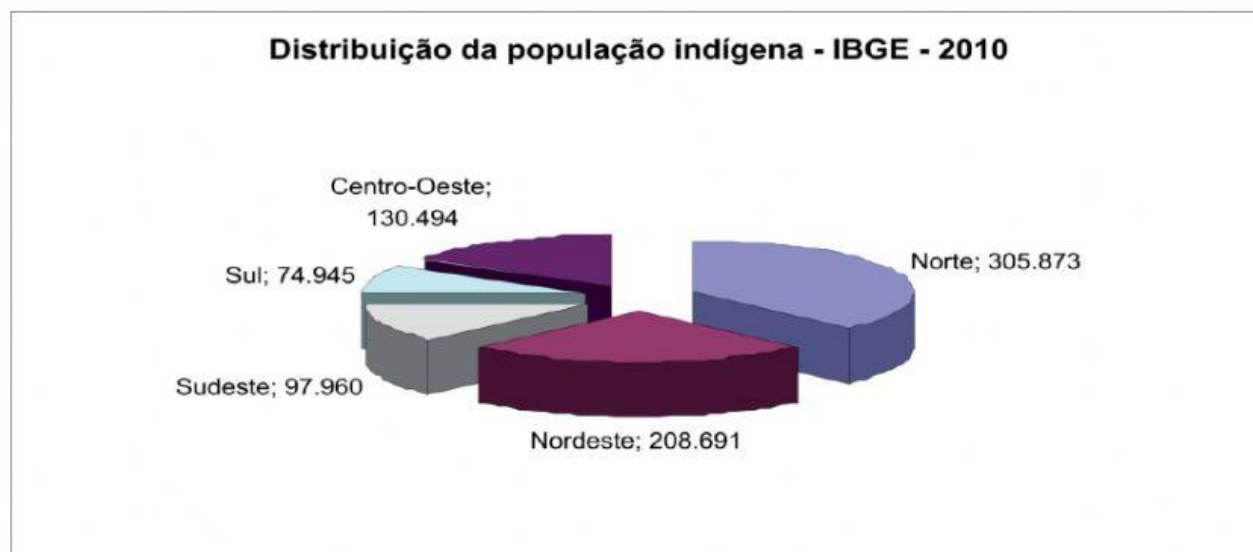
População indígena por região no Brasil



Fonte: IBGE

<https://mundoeducacao.uol.com.br/geografia/a-populacao-indigenas-no-brasil> Acesso 22/24/2021

Imagem B.



<http://funai.gov.br/index.php/indios-no-brasil/quem-sao> Acesso 22/04/2021

Com base nas informações aqui dispostas acima, e em seus estudos, responda:

a) O que as duas figuras têm em comum?

b) Qual região apresenta maior número de habitantes indígenas?

c) Quais mudanças podemos observar em relação a mobilidade e urbanização indígena?

Quanto mais você
estuda mais aprende
e se aproxima de
realizar os seus
sonhos.

MUNDO
DE MENSAGENS

www.mundodasmensagens.com