

NOME :

D8 Questão 1

Wagner construiu sua casa em 90 dias.
Este período corresponde a

- (A) 3 meses
- (B) 9 meses
- (C) 10 meses
- (D) 18 meses.

D17 Questão 2

José fez a subtração a seguir: $450 - 350$.
O resultado encontrado por José foi

- (A) 130
- (B) 120
- (C) 110
- (D) 100

D15 Questão 3

Observe o número 1432.

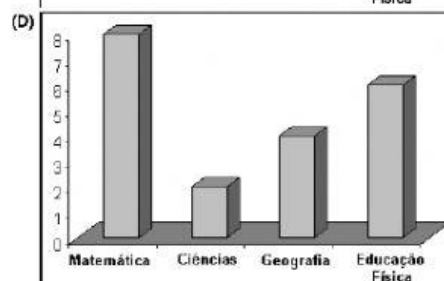
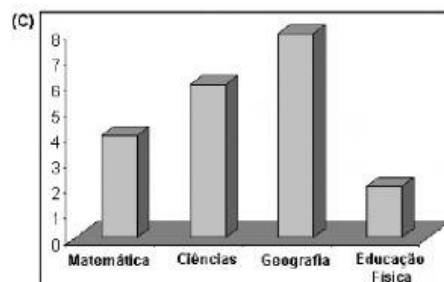
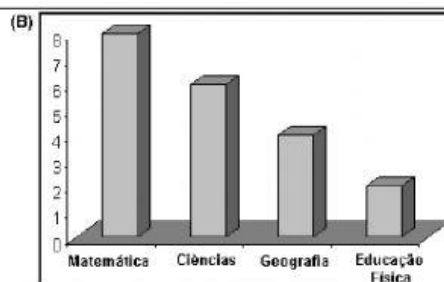
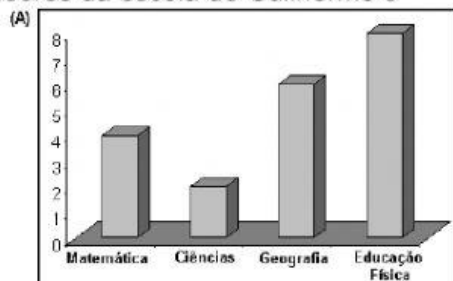
Ele é constituído por

- (A) Uma unidade de milhar, quatro centenas, três unidades e duas dezenas.
- (B) Uma centena, quatro unidades de milhar, três dezenas e duas unidades.
- (C) Uma unidade de milhar, quatro centenas, três dezenas e duas unidades.
- (D) Uma unidade de milhar, quatro dezenas, três centenas e duas unidades.

D28 Questão 4

Na escola de Guilherme existem 8 professoras de Matemática, 6 professoras de Ciências, 4 professoras de Geografia e 2 professores de Educação Física.

O gráfico que melhor representa o número de professores da escola de Guilherme é



D16 Questão 5

Um número é decomposto em

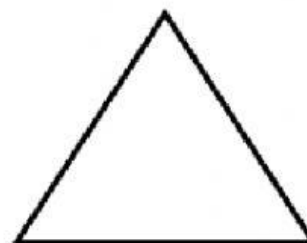
$$1 \times 1000 + 3 \times 100 + 4 \times 10$$

Esse número corresponde a

- (A) 134
- (B) 340
- (C) 1340
- (D) 1341

D3 Questão 6

A figura a seguir é um polígono que possui 3 lados.



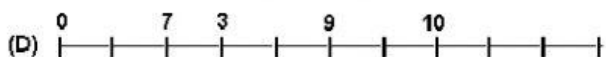
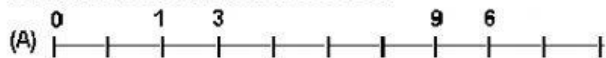
O nome deste polígono é

- (A) quadrado
- (B) retângulo
- (C) triângulo
- (D) círculo

NOME :

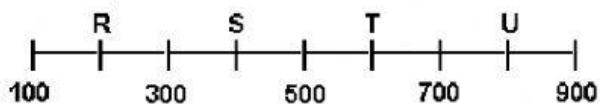
D14 Questão **7**

Marque a alternativa que representa a reta numérica em ordem crescente.



D15 Questão **8**

Na reta numérica a seguir, alguns números foram trocados por letra.



O ponto em que está localizada a letra S corresponde ao número

- (A) 200
- (B) 400
- (C) 600
- (D) 800

D9 Questão **9**

O quadro a seguir mostra o horário de recreio da escola "Cantinho do Saber".

Início do Recreio	Término do recreio
9h 15min	9h 45 min

Esse recreio tem a duração de

- (A) 20 minutos
- (B) 25 minutos
- (C) 30 minutos
- (D) 35 minutos

D1 Questão **10**

Observe o campo de futebol a seguir:



A bola está localizada

- (A) a esquerda do campo.
- (B) a direita do campo.
- (C) na parte superior do campo.
- (D) no centro do campo.