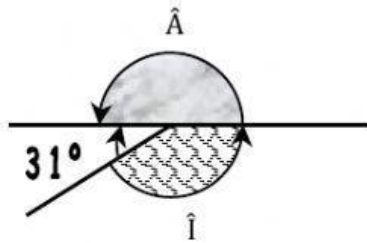
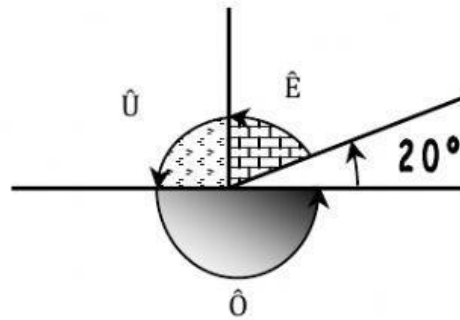


LA MEDIDA DE ÁNGULOS

1. Calcula el valor de los ángulos.

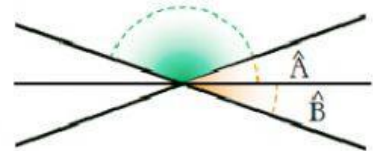
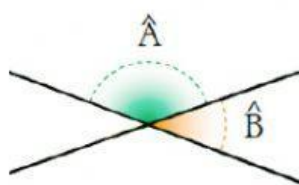
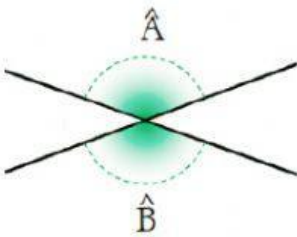


$$\hat{A} = \dots\dots\dots^\circ \quad \hat{I} = \dots\dots\dots^\circ$$

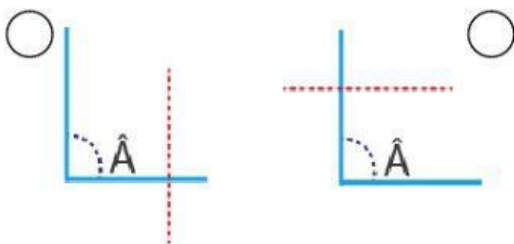


$$\hat{U} = \dots\dots\dots^\circ \quad \hat{E} = \dots\dots\dots^\circ \quad \hat{O} = \dots\dots\dots^\circ$$

2. ¿Cómo son los siguientes ángulos?



3. ¿Qué dibujo representa la bisectriz del ángulo \hat{A} ?



4. Completa la tabla.

	GRADOS	MINUTOS	SEGUNDOS
16757 min			
391 s			
10551 min			
48712 s			

5. Convierte.

a) $51^\circ 33' 57'' =$ "

b) $38^\circ 1020' =$ ' "