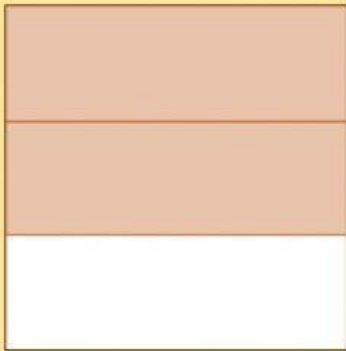


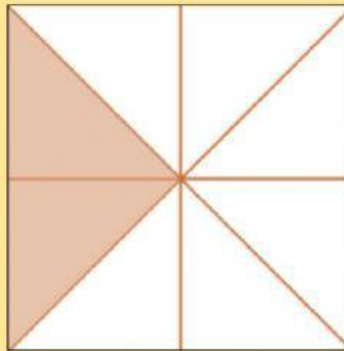



Reparto de Fracciones.

Lee el problema matemático, anota la fracción y el nombre del personaje que corresponde; después, contesta las preguntas

Alberto, José Luis y Osman comieron dos rebanadas de gelatina, aunque el tamaño de las rebanadas no fue el mismo para todos. Alberto partió la suya en ocho partes, José Luis en cuatro y Osman en tres.







¿Quién comió más gelatina? _____

¿Quién comió menos gelatina? _____

