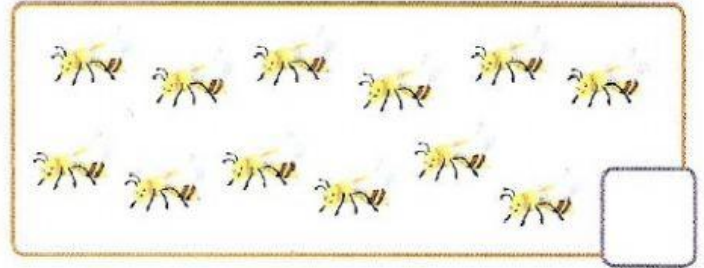

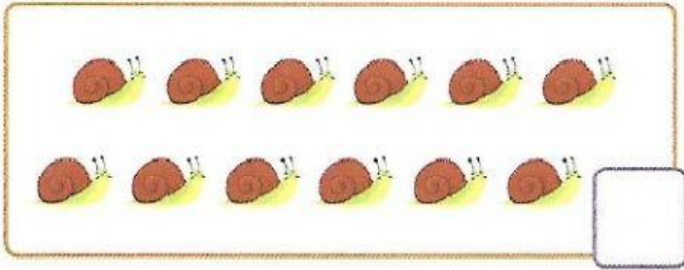


## Ticket de salida Clase 20

1. Marca los dos grupos que tienen **igual** cantidad de elementos.



2. En cada grupo marca el número mayor.

18	9	17
----	---	----

19	9	10
----	---	----

10	13	5
----	----	---

8	6	7
---	---	---