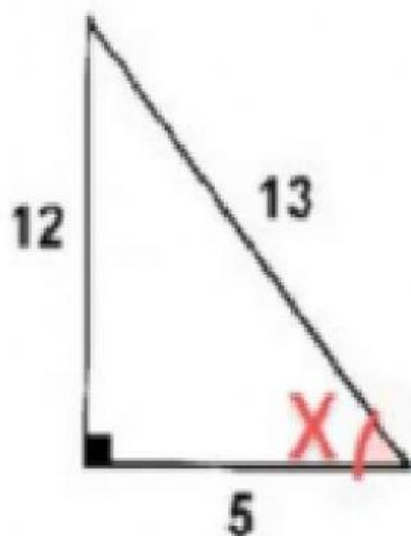
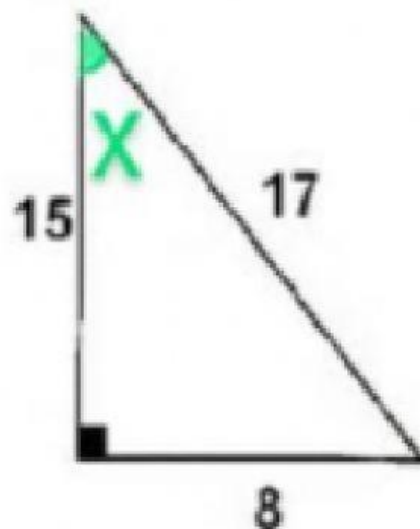
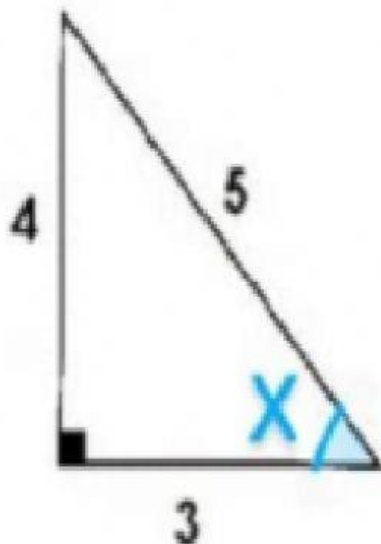




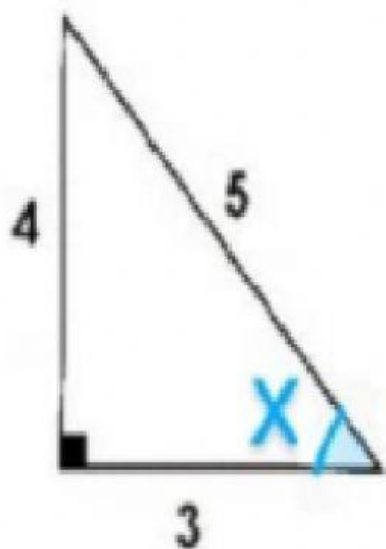
# Funciones trigonométricas



Selecciona el nombre de los lados del triángulo según el ángulo marcado.



Representa las tres funciones trigonométricas (Seno, Coseno y tangente) basándote con la información de cada triángulo



$$\text{Sen } x = \text{-----}$$

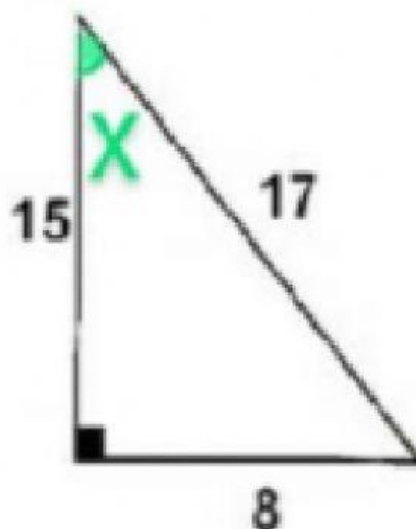
$$\text{Cos } x = \text{-----}$$

$$\text{Tan } x = \text{-----}$$

$$\text{Sen } x = \text{-----}$$

$$\text{Cos } x = \text{-----}$$

$$\text{Tan } x = \text{-----}$$



$$\text{Sen } x = \text{-----}$$

$$\text{Cos } x = \text{-----}$$

$$\text{Tan } x = \text{-----}$$

