

REPASEMOS CCSS

1. Sitúa cada frase debajo de la imagen a la que corresponda:

Colaborar en las tareas del hogar.

Votar en las elecciones.

Participar en las fiestas del colegio.

Ayudar a mantener un buen ambiente en clase.

Presentarse como candidata o candidato a la alcaldía.

Mantener una buena relación con los vecinos y las vecinas.

2. ¿Qué acciones puede realizar alguien según su edad? Haz clic en las imágenes que corresponda.

3. Completa con las palabras que corresponda:

Los pueblos se diferencian de las ciudades por el número de habitantes.

Los son localidades pequeñas, con de 10 000 habitantes.

Las son localidades grandes en las que viven de 10 000 habitantes.

El es la institución encargada de administrar y gobernar el pueblo o la ciudad donde vivimos. Está gobernado por el que es la máxima autoridad y dirige y preside el Ayuntamiento. Los ayudan al alcalde o alcaldesa en su trabajo y se responsabilizan de un municipal.



4. Indica con qué sector se relacionan las siguientes actividades económicas.



sector primario



sector secundario



sector terciario



transportista



periodista



minero



enfermera



ganadero



obrero



cocinero



albañil



maestro



agricultor



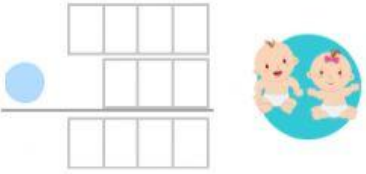


carpintero



leñador

5. ¿Qué cambios ha registrado la localidad de Marta? Calcula a partir de los datos del enunciado. (Señala con la respuesta correcta).

Marta vive en una localidad donde ha habido 1 200 nacimientos y 500 defunciones. Este año han llegado a la localidad 300 inmigrantes y se han marchado 280 emigrantes.

crecimiento natural	crecimiento o saldo migratorio	crecimiento real
		
<input type="radio"/> La población ha disminuido con los nacimientos.	<input type="radio"/> La población ha aumentado con la inmigración.	<input type="radio"/> La población de Marta ha disminuido.
<input type="radio"/> La población ha aumentado con los nacimientos.	<input type="radio"/> La población ha disminuido con la inmigración.	<input type="radio"/> La población de Marta ha aumentado.

6. Clasifica estas señales de tráfico:



prohibición	advertencia	obligación	información
