



Pengolahan Data 2

LK 7

Nilai

Paraf

Nama : _____

No. Absen : _____

Kelas : Empat / _____

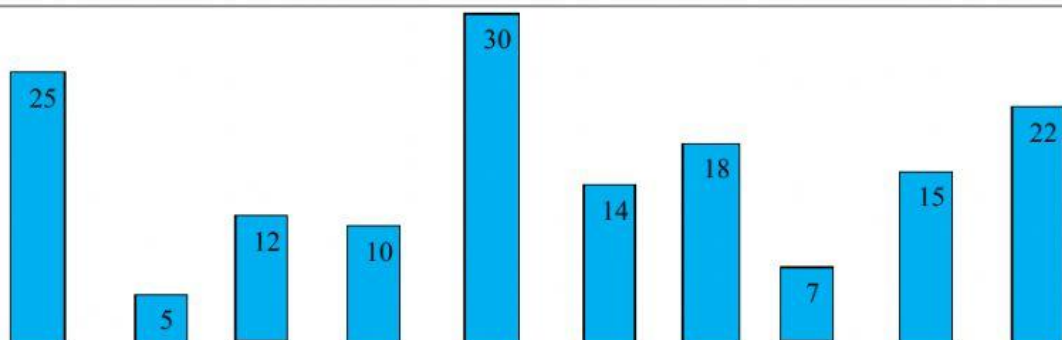
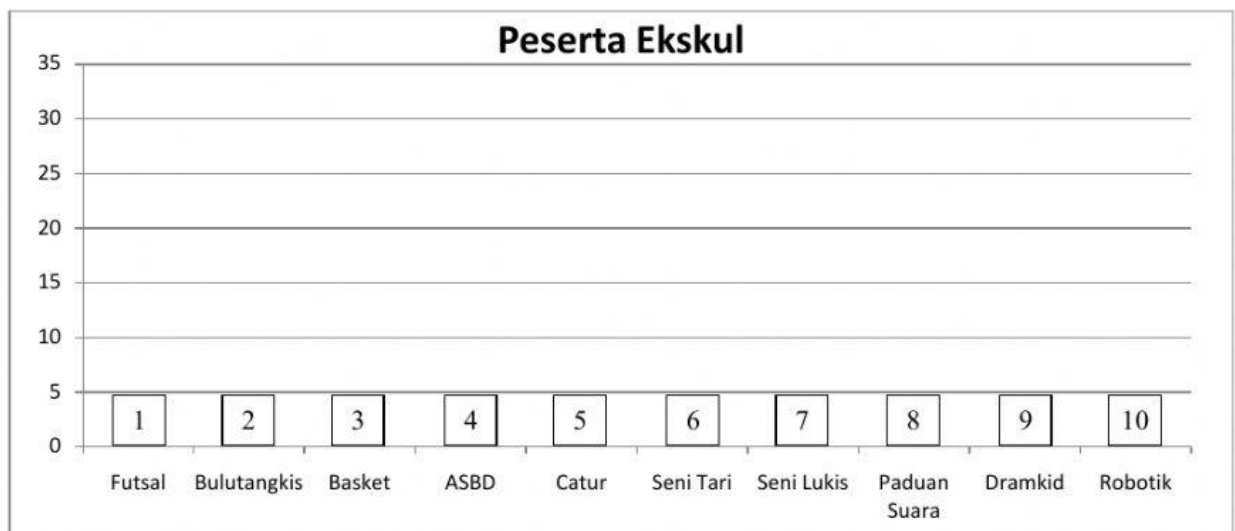
Hari/Tanggal : _____

Berikut informasi hasil pendataan peserta ekstrakurikuler kelas 4 SDIA 1. Peserta ekstrakurikuler Futsal 30 orang, Bulutangkis 14 orang, Basket 25 orang, ASBD 18 orang, Catur 5, Seni Tari 22 orang, Seni Lukis 7 orang, Paduan Suara 10, Dramkid 12, dan Robotik 15 orang.

1. Lengkapi tabel berikut sesuai dengan data di atas!

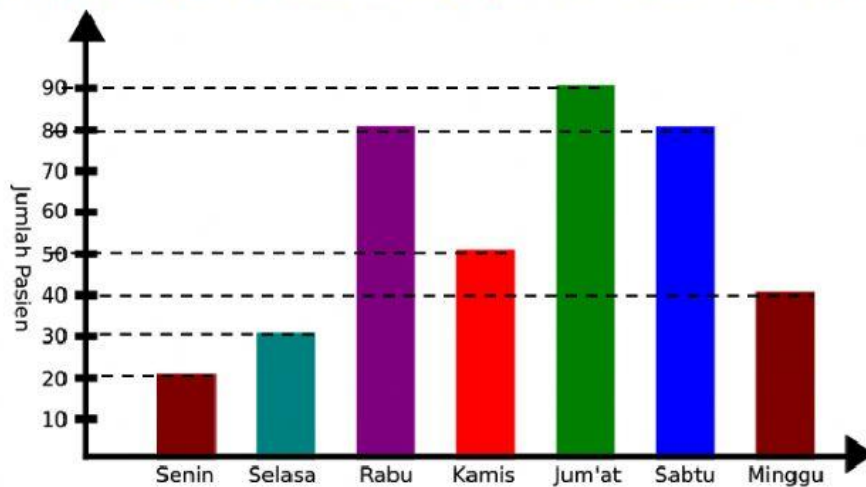
No.	Jenis Ekskul	Frekuensi/Jumlah
1	Futsal	
2	Bulutangkis	
3	Basket	
4	ASBD	
5	Catur	
6	Seni Tari	
7	Seni Lukis	
8	Paduan Suara	
9	Dramkid	
10	Robotik	
Jumlah		

2. Lengkapi diagram berikut dengan menempatkan batang diagram dengan tepat!



Perhatikan diagram batang berikut ini untuk mengisi soal nomor 1 – 5 !

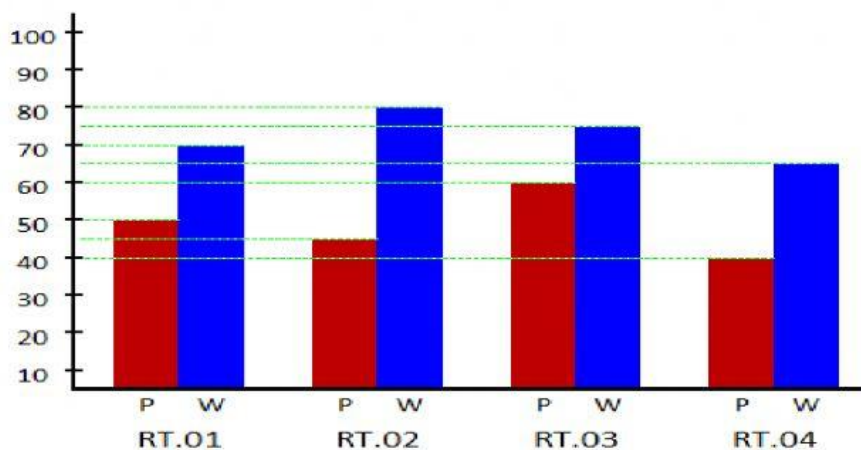
Data di bawah ini menunjukkan jumlah pasien di puskesmas Sehat Sejahtera selama seminggu.



1. Pasien paling banyak datang pada hari
2. Pasien paling sedikit datang pada hari
3. Selisih jumlah pasien paling banyak dan paling sedikit adalah
4. Jumlah yang datang pada hari Kamis adalah
5. Jumlah seluruh pasien yang datang di puskesmas Sehat Sejahtera adalah

Perhatikan diagram berikut!

Setelah selesai pelaksanaan sensus penduduk di Desa Suka Senang, diketahui bahwa jumlah Penduduk tiap RT sebagai berikut:



6. Jumlah penduduk pria di RT 03 adalah
7. Jumlah penduduk wanita di RT 02 adalah
8. Jumlah penduduk pria di Desa Suka Senang adalah
9. Jumlah penduduk wanita di Desa Suka Senang adalah
10. Selisih banyak penduduk pria dan wanita di Desa Suka Senang adalah