



LOS CONTINENTES

1) Arrastra el nombre del continente al planisferio ubicándolo donde corresponda.

América

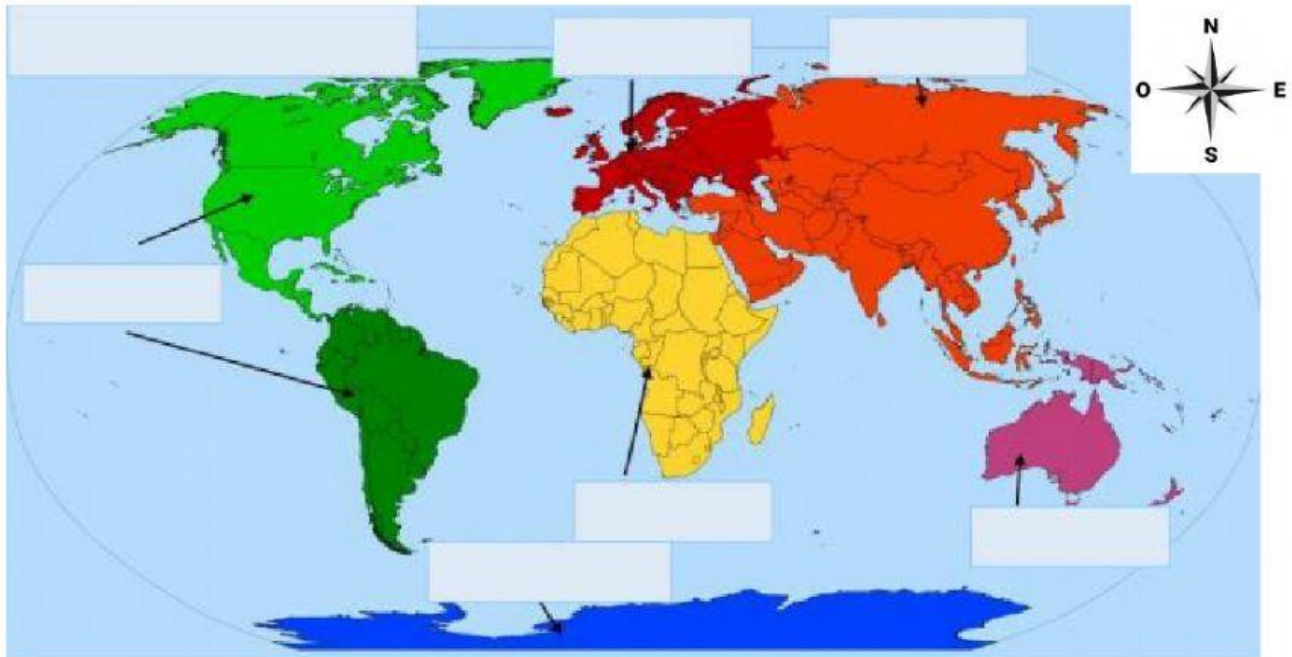
Asia

Oceanía

Europa

África

Antártica



2) Escribe el concepto que completa correctamente cada oración.

1. Se cree que hace millones de años los continentes estaban unidos formando una gran masa de tierra: un supercontinente llamado _____

2. Muchos millones de años después él _____ se fraccionó y cada trozo fue moviéndose lentamente hasta encontrar su ubicación actual.

3. Es considerado el continente más poblado del mundo _____

4. _____ es el continente más pequeño, formado por miles de islas. Australia

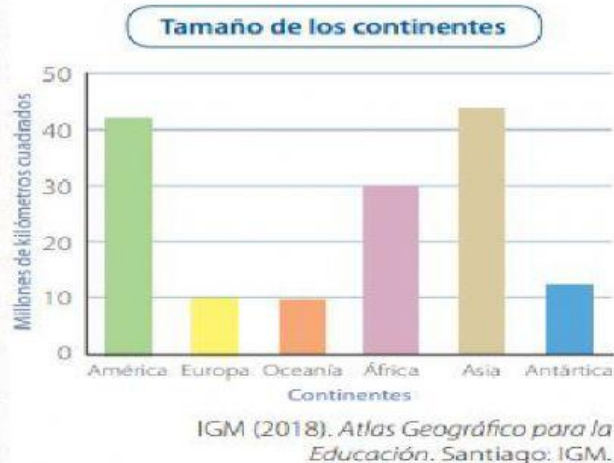
y Nueva Zelanda son las más extensas y las más desarrolladas.

5) América esta al Oeste del continente _____

6) África esta al Sur de _____

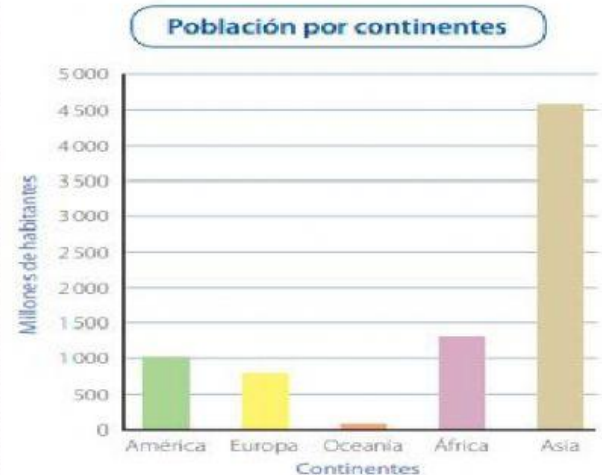
Recurso 2

¿Cuál es la extensión de los continentes?



Recurso 3

¿Cuánta población tienen los continentes?



Hyde (2016) y Naciones Unidas (2019). Recuperado de <https://bit.ly/2PPAcqm> (Adaptación). No se incluye la Antártica porque su población no es permanente.

Observa ambos gráficos y responde:

- a) ¿Cuál es el continente más grande?
- b) ¿Cuál es el continente más pequeño?
- c) ¿Cuál es el continente más poblado?
- d) ¿Cuál es el continente menos poblado?