











CIENCIAS NATURALES

TEMA: Masa y volumen

Lee atentamente cada descripción y relaciónala con la pareja que corresponda

 A) 10 kg de plumas y  1 kg de papel	() Tienen la misma masa, pero para igualarla, el cuerpo más ligero tiene más volumen.
 B) 1 kg de vidrio y  1 kg de algodón	() Tienen el mismo volumen pero como no son del mismo material, uno de ellos tiene más masa.
 C) 2 kg de plástico y  10 kg de piedra	() Tienen la misma masa porque están hechos del mismo material, pero no tienen la misma forma.
 D) 5 kg de madera y  5 kg de madera	() Tienen diferente volumen y el cuerpo más pequeño tiene más masa.
 E) 15 kg de cemento y  1 kg de esponja	() Tienen diferente masa y el cuerpo con mayor volumen es el que pesa más.