

DEL 1-20

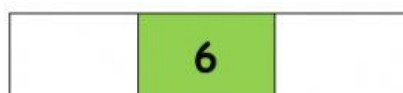




INSTRUCCIONES: Escribe los números que faltan

| | | | | |
|--|----|--|--|----|
| | 2 | | | 5 |
| | | | | |
| | 12 | | | |
| | | | | 20 |

| | | | | | | | | | |
|---|----|----|----|----|----|---|----|---|---|
| 1 | 17 | 7 | 19 | 15 | 13 | 4 | 10 | 8 | 3 |
| 6 | 9 | 14 | 18 | 11 | 16 | | | | |

EL QUE VA ANTES Y DESPUES

INSTRUCCIONES: En cada espacio escribe el número que antes y el que sigue después, observa el ejemplo



RELACIONA

INSTRUCCIONES: Observa el número de la rana, cuenta los moscos y une la rana con la cantidad correcta que moscos que se van a comer.

