



FUNDACIÓN EDUCACIONAL URGEL
COLEGIO "ANA MARÍA JANER"

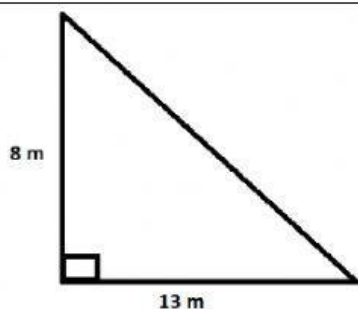
ASIGNATURA	Geometría
CURSO	7° Básico



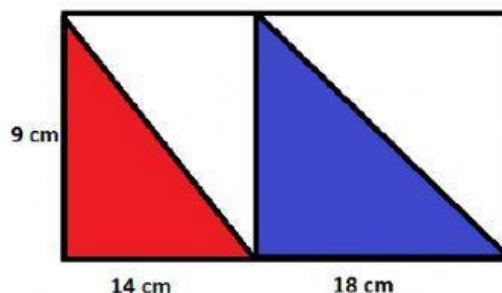
Guía de Practica: Área de Triángulos

1. Determinar el área de las siguientes figuras.

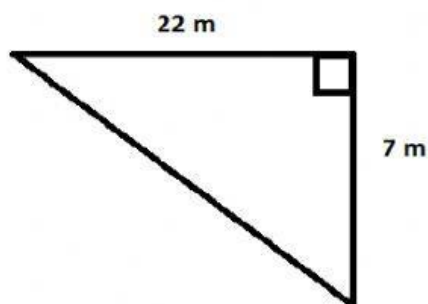
a)



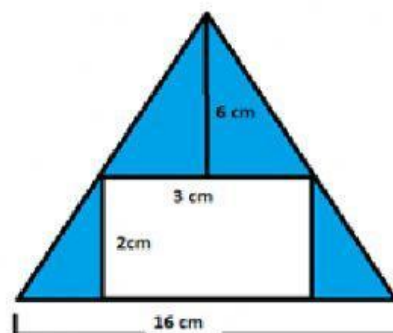
b) ¿Cuál es el área del sector rojo más el sector azul?



c)



d) Determine el área del sector azul



e) El área de un triángulo rectángulo es 400 m^2 , si su altura es de 10 m. ¿Cuál es la medida de la base?

f) El área de un triángulo rectángulo es 300 cm^2 , si su altura es de 6 cm. ¿Cuál es la medida de la base?