

Mata Pelajaran : Tematik Matematika

Tema : 8 Praja Muda Karana

Subtema : Aku Anak Mandiri

**NAMA/KELAS :**


# BANGUN DATAR

Tujuan Pembelajaran :

1. Melalui tayangan video, siswa dapat menuliskan contoh bangun datar
2. Melalui tayangan video, siswa dapat membedakan jenis bangun datar berdasarkan sifatnya

<https://youtu.be/YpRnqPfdwZo>

 Berilah komentar kalian tentang video d atas !



## Penjodohan

A. Jodohkanlah soal-soal di bawah ini dengan jawaban yang ada di sebelah kanan !

1).




Trapesium

2).



Belah ketupat

3).



Mempunyai 2 sisi yang sama panjang

## Pilihan Ganda

B. Pilihlah jawaban yang benar dari jawaban a, b, c dan d !

1). Segitiga mempunyai sisi sebanyak ....

a. 3

c. 4

b. 2

d. 5

2). Manakah di bawah ini yang termasuk bangun datar lingkaran ?

a.



c.



b.



d.




### Drop Down

C. Pilihlah nama bangun datar yang sesuai gambar di bawah ini !

1).



2).



### Kotak Centang

D. Berilah tanda centang yang sesuai pada nama bangun datar yang sesuai dengan gambar berikut !



☐ Segitiga

☐ Segi empat

☐ Belah ketupat


☐ Lingkaran

### Drag and Drop

E. Letakkan Nama Bangun Datar berikut ini pada gambar bangun datar yang sesuai !



Elips



Jajar genjang