

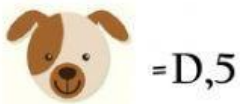


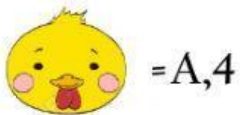
EVALUACIÓN DE HISTORIA, GEOGRAFÍA Y CS. SOCIALES

NOMBRE:

CURSO

FECHA:

➤ Arrastra los objetos al lugar que te indica la coordenada. (6 PUNTOS)



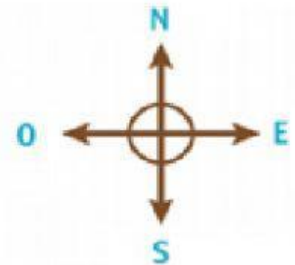
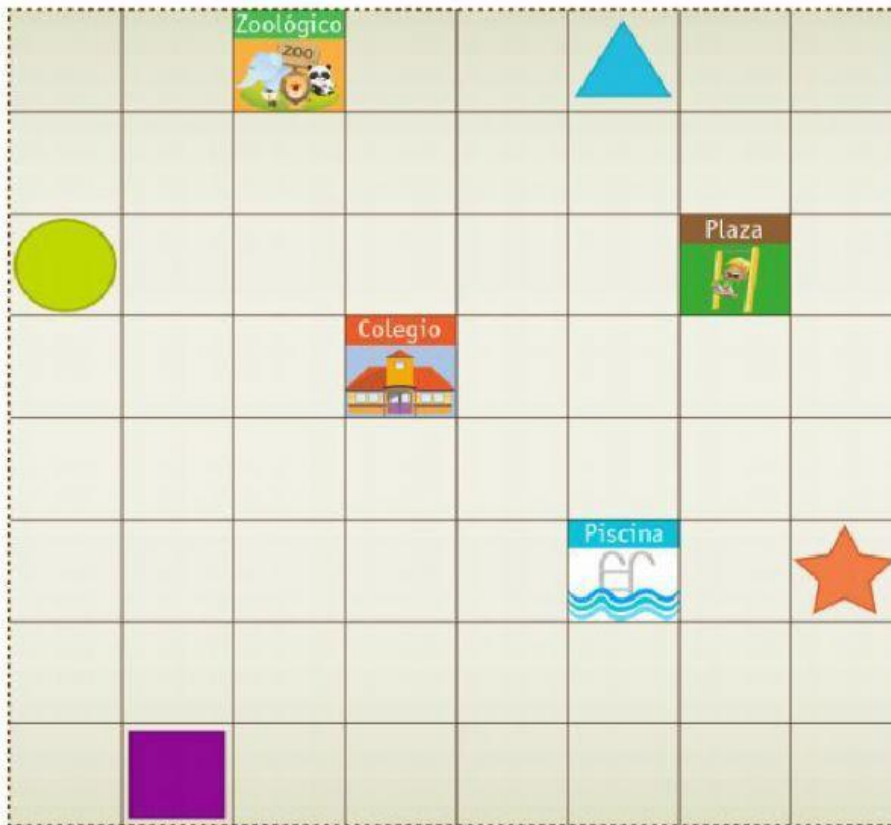
A						
B						
C						
D						
E						
F						
G						
	1	2	3	4	5	6


➤ Completa cada frase escribiendo la información que falta. (6 puntos)



1. Chile limita al **norte** con _____ y _____.
2. Chile Limita al **este** con _____.
3. Al **oeste** de Chile se encuentra _____.
4. Al **sur** de Chile está la _____.
5. ¿Qué país está al **este** de Colombia? _____.
6. Un país al **sur** de Bolivia es _____.

➤ Lee y marca en cada situación el lugar al que llegas. (3 puntos)




Comienza en 


*Avanza 7 al este

*avanza 3 al sur

*avanza 2 al oeste

¿A qué lugar llegaste?



Comienza en 


*Avanzo 5 al oeste

*avanzo 3 al sur

*avanzo 3 al este.

¿A qué lugar llegaste?



Comienza en 

*Avanzo 2 al sur

*avanzo 5 al oeste

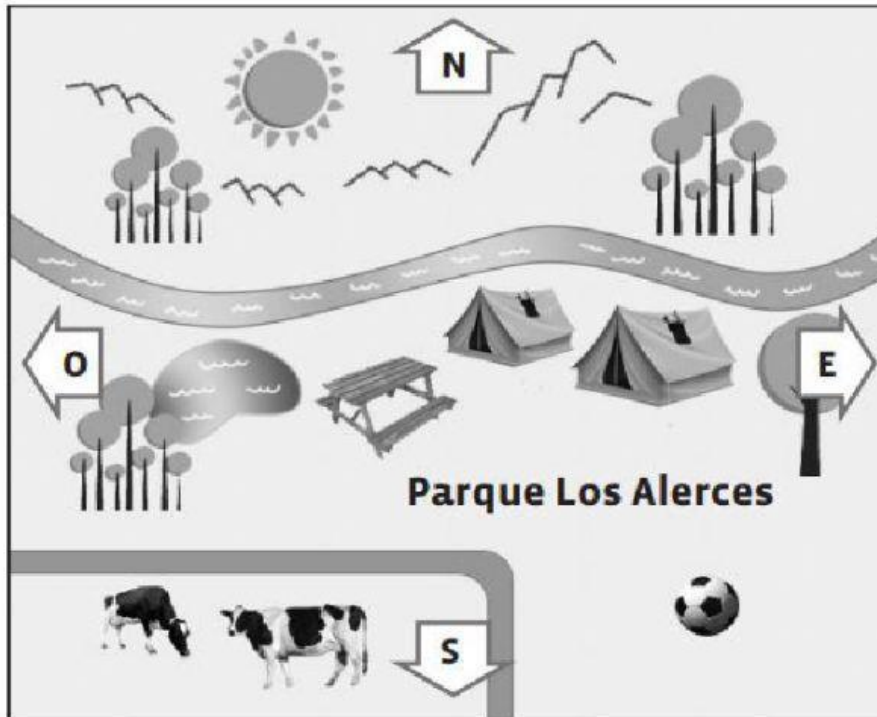
*avanzo 7 al norte.

¿A qué lugar llegaste?



➤ Observa el plano y marca:

- **SÍ**, si la frase es verdadera
- **NO**, si la frase es incorrecta o falsa.



Simbología



1) Este plano representa una escuela.

SÍ

NO

2) La cancha de fútbol está al este de las vacas.

SÍ

NO

3) Las montañas están al oeste del río.

SÍ

NO

4) La zona de picnic está al este del lago.

SÍ

NO

5) Al norte del río hay bosques y montañas.

SÍ

NO