

**Exercice 1:** l'heure

→ Dessin les aiguilles et complète l'heure.

Le matin		Le soir	
	1. Il est sept heures...		1. Il est dix-neuf heures.....
	2. Il est neuf heures et demie.		2. ....
	3. Il est onze heures moins le quart.		3. ....

**Exercice 2: l'heure**

→ Coche la bonne réponse.

☐  
☐  
☐

1


Il est deux heures

2

Il est une heure

3

Il est onze heures

☐  
☐  
☐

1

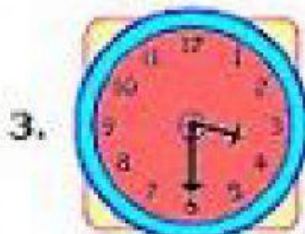
Il est huit heures moins dix

2

Il est sept heures moins dix

3

Il est huit heures dix

☐  
☐  
☐

1

Il est trois heures et quart

2

Il est trente heures et demie

3

Il est trois heures et demie

☐  
☐  
☐

1

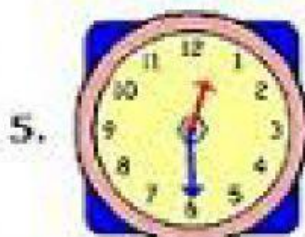
Il est quatre heures et quart

2

Il est quatre heures moins vingt

3

Il est quatre heures vingt

☐  
☐  
☐

1

Il est une heure et demi

2

Il est midi/minuit et demi

3

Il est midi/minuit

**Exercice 3:** Quelle heure est-il ?

→ Lis et écris l'heure

Quelle heure est-il?



Il est \_\_\_\_\_



Il est \_\_\_\_\_



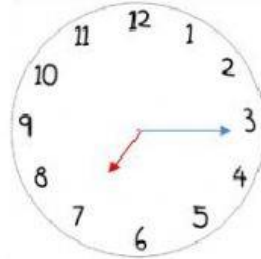
Il est \_\_\_\_\_




Il est \_\_\_\_\_



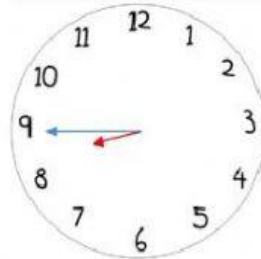
Il est \_\_\_\_\_



Il est \_\_\_\_\_





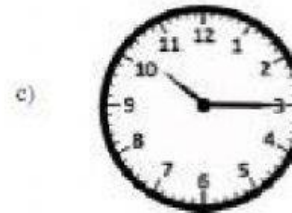
Il est \_\_\_\_\_



Il est \_\_\_\_\_

**Exercice 4:** l'heure

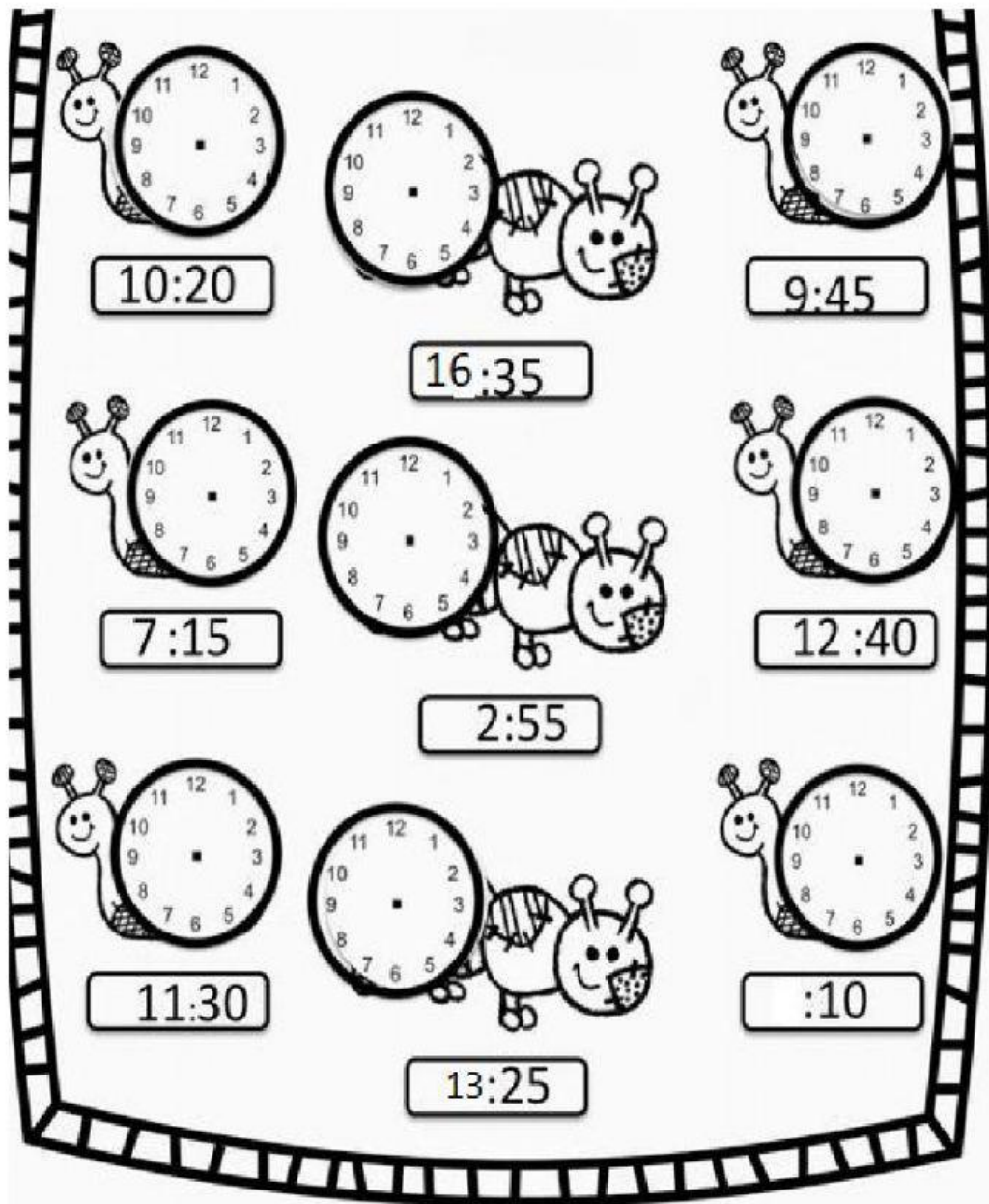
→ Associe les heures correspondantes.





**Exercice 5: l'heure**

→ Place les aiguilles sur l'horloge.



**Exercice 6:** Quelle heure est-il ?

→ Découpe les étiquettes et colle-les sous la bonne horloge.



### Exercice 7: L'heure

→ Colorie de la même couleur les cases qui représentent la même heure.

17:00		17:00	11 heures et demie
	11 heures et demie		17:00
11 heures et demie	17:00	11 heures et demie	

### Exercice 8: Chanson de l'heure

→ Complète la chanson.

Tous les ... matins ... ,  
C'est le même refrain.  
À ... , je me réveille,  
Mais j'ai encore sommeil.  
... du bon pied.  
... mon petit déjeuner.  
Il ... et ...  
... et je m'habille.  
Huit heures ! Quelle horreur !  
Je me dépêche, c'est déjà l'heure !  
Vite, ... et ... !  
... arriver en retard.

